

İSTİKLÂL MARŞI

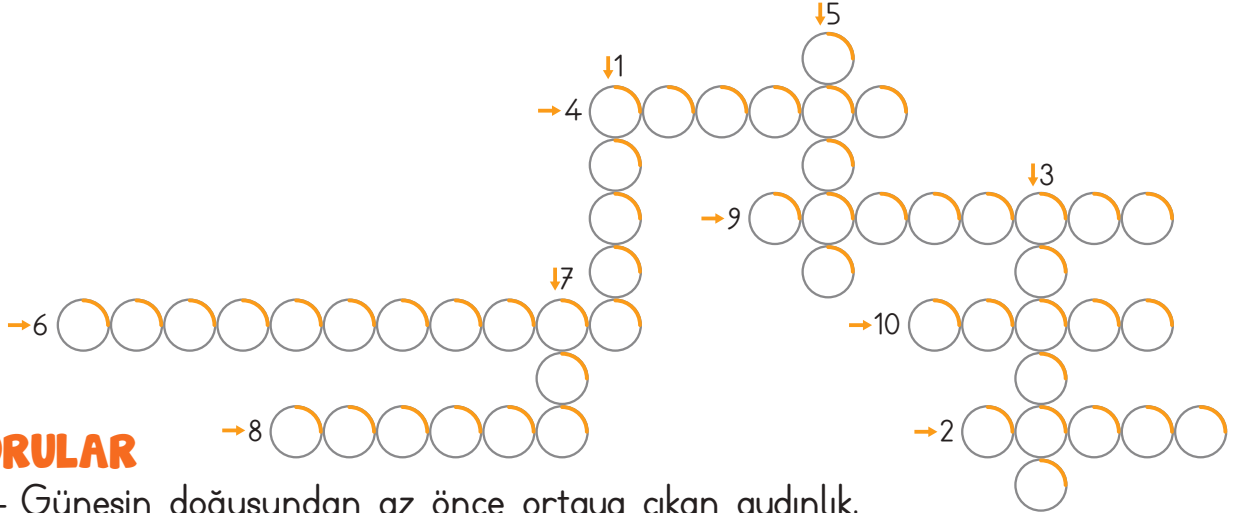
Korkma, sönmez bu şafaklarda yüzen al sancak;
Sönmeden yurdumun üstünde tüten en son ocak.
O benim milletimin yıldızıdır, parlayacak;
O benimdir, o benim milletimindir ancak.

Çatma, kurban olayım, çehreni ey nazlı hilâl!
Kahraman ırkıma bir gül! Ne bu şiddet, bu celâl?
Sana olmaz dökülen kanlarımız sonra helâl...
Hakkıdır, Hakk'a tapan, milletimin istiklâl!

Mehmet Âkif ERSOY

★ İstiklal Marşının ilk iki kıtasından yola çıkarak konusunu yazınız.

★ Anlamı verilen kelimeleri bulmacaya yazınız.(Kelimeler şiirde geçen kelimelerdir.)



SORULAR

- 1- Güneşin doğuşundan az önce ortaya çıkan aydınlık.
- 2- Yüz.
- 3- Benzer özellikleri olan topluluk.
- 4- Bir hareketin gücün derecesi, sert olma durumu.
- 5- Ululuk, yücelik anlamına gelen kelime.
- 6- Metinde geçen İstiklal kelimesinin anlamı.
- 7- Soy anlamına gelen kelime.
- 8- Genellikle askeri birliklere verilen, gönderli bayrak.
- 9- Savaşta yiğitlik gösteren, tehlikeli bir durumda yararlık gösteren kişi.
- 10- Ayın ilk günlerinde aldığı yay biçimi.

TÜRKÇE

Metni Okuma-Anlama

★ Aşağıdaki cümlelerde boş bırakılan yerleri uygun ifadelerle tamamlayınız.

Bayrağımız ve İstiklal Marşımız simgesidir.

İstiklal Marşımız tarafından yazılmıştır.

Milli Marşımızın adı 'dır.

Bütün bağımsız ülkelerin bir ve vardır.

Türk bayrağı, ve vatanımızın temsil eder.

- ☛ bağımsızlığımızın ☛ M.Âkif ERSOY ☛ Kurtuluş Marşı ☛ Milli Marşı
☛ bayrağı ☛ ulusumuzun ☛ bağımsızlığını

BAŞINA PAMUK EKMIŞ

Bir gün Hoca, bir acemi berbere tıraş olur. Adamcağız, ustura çaldıkça keser, kestiği yere de pamuk yapıştırırmış. Hoca, bir aralık kavuğuna uzanır. Berber utana, sıkıla:

- Aman efendi, daha başınızın yarısı tıraş edilmedi, deyince Hoca kıs kıs güler:

- Be evlat; sen başımın yarısına pamuk ektin. Bari bırak da ben de yarısına keten ekeyim! der.



Metnin Konusu

.....
.....
.....

Metnin Ana Fikri

.....
.....
.....

Metinde Geçen Olay

.....
.....
.....

Metnin Kişileri

.....
.....
.....

TÜRKÇE

Metnin Bölümleri - Deyimler

★ Aşağıdaki yazıları okuyarak hangi bölümden alındığını karşısına yazınız.

▶ GİRİŞ




▶ GELİŞME

▶ SONUÇ

Bugün televizyon sadece bir "aptal kutusudur", bazıları ise ondan "çağın harika buluşu" olarak söz ediyor.

Ahmet, on beş yaşında, İzmir'de yaşayan bir çocuktur. Okulunda gayet başarılı, ödevlerini ve sorumluluklarını yerine getirirdi. Bu özelliklerinden dolayı ailesi onunla gurur duyardı.

Sonuç olarak, kitap okumak insanın kelime hazinesini zenginleştirir, ufkunu açar.



★ Atasözleri ve deyimlerle ilgili doğru anlatımlara "✓" işareti koyunuz.

- | | |
|--|---|
| <input type="checkbox"/> Kısa ve özlü sözlerdir. | <input type="checkbox"/> Atasözleri ve deyimler kalıplaşmıştır, değiştirilemez. |
| <input type="checkbox"/> Ünlü kişilerin söylediği sözlerdir. | <input type="checkbox"/> Deyimler en fazla iki kelimedenden oluşur. |
| <input type="checkbox"/> Öğüt verici ve yol göstericidir. | <input type="checkbox"/> Bir olay tüm toplum için geçerli olarak yazılır. |
| <input type="checkbox"/> Deneylere dayanır. | |
| <input type="checkbox"/> Deyimler genellikle mecaz anlamlıdır. | |

★ Aşağıda verilen deyimleri anlamları ile eşleştiriniz.

- | | |
|--|--|
| <input type="checkbox"/> 1 Burun kıvrımak | <input type="checkbox"/> Tasalanmak, üzölmek |
| <input type="checkbox"/> 2 Gam çekmek | <input type="checkbox"/> Çok acı ve sıkıntı çekmek |
| <input type="checkbox"/> 3 İçi cız etmek | <input type="checkbox"/> Önem vermemek |
| <input type="checkbox"/> 4 Ciğeri yanmak | <input type="checkbox"/> Sesini çıkarmadan her acıya katlanmak |
| <input type="checkbox"/> 5 Bağına taş basmak | <input type="checkbox"/> Ansızın içi sızlamak |



★ Aşağıdaki görselde bahsedilen deyimleri bulup yazınız.



DEYİMLER

.....

.....

.....

.....

.....

.....

.....

.....

.....

.....

.....

★ Aşağıdaki görselde bahsedilen deyimleri bulup yazınız.



DEYİMLER

Ağızdan bal damlamak.

Dile düşmek.

Tatlı dil yılanı deliğinden çıkarır.

Göze girmek.

Göz kulak olmak.

Göz boyamak.

Kaşla göz arasında.

Saçını süpürge etmek.

Gözden düşmek

Kulak misafiri olmak.

Kulak tıkmak.

Burnu kaf dağında olmak

Ağızdan bal damlamak.

Ağız kulaklarına varmak.

Alın teri dökmek.

Alın açmak.

MEHMET VE ÇANAKKALE



Sınıfça o sene gidecekleri gezi Mehmet'i heyecanlandırıyordu. Öğretmeni hep kahraman askerlerimizden, Çanakkale'den ve tabii M. Kemal'den bahsederdi. Şimdi oralara gitmek Mehmet için gurur kaynağıydı.

Gezi günü yola çıktılar. Çanakkale'ye geldiklerinde şehitlerimizin anıt mezarlarını görmek, onların savaştıkları cepheleri görmek, Seyit Onbaşı'yı ve nice şehitlerimizi yerlerinde ziyaret etmek inanılmaz bir duyguydu.

Gezi bitip eve döndükten sonra bile Mehmet günlerce ailesine geziden bahsetti. Hem Atamız'a hem şehitlerimize olan minneti artarak devam etti. Ülkesi, bayrağı ve Atasıyla gurur duyuyordu.

1. Mehmet neden heyecanlıydı?

2. Mehmet geziye nereye ve kimlerle gitti?

3. Gezinin Mehmet'e katkısı sizce ne olmuştur?

4. Siz Çanakkale'ye gittiniz mi? Gittiyseniz nereleri gezdiniz?

5. Geziden sonra Mehmet neler yaşamıştır?

★ Aşağıda metinde geçen bazı kelimeler verilmiştir. Anlamalarını bulup karşlarına yazınız.

Gezi :

Şehit :

Kahraman :

Minnet :

★ Aşağıda isimleri verilen milli mücadele kahramanlarını araştırınız.

Seyit Onbaşı

Şerife Bacı

Halime Çavuş

TÜRKÇE

Noktalama İşaretleri

★ Aşağıdaki cümleleri kesip önceki sayfanın üzerindeki cümlelere kareler açıkta kalacak şekilde yapıştırınız. Noktalama işaretlerinden uygun olanları kesip cümledeki boş karelere yerleştiriniz.

Pelin in konuşmasını doğru bulmadım

O çalışkan saygılı iyi bir çocuktur

Of başım ağrıyor

Evet onu dinleyeceğim

Ben İzmir deyim


Baban bugün mü gelecek yarın mı

Dr Cem 5 katta oturuyor

Ali bugün mü gelecekti

Hava kararmaya başladı

Bugün parkta oyun oynadım



Mertcan, eve doğru giderken yolda, kaldırımın kenarında bir köpek yavrusu görür. O kadar masum ve çaresiz görünüyordu ki ne yapsa da yardım etse bilemiyordu. Cebine baktı sadece bir paket süt alacak parası vardı. Parasıyla sütü alıp yavru köpeğe süt aldı, sütü içene kadar bekledi. Köpekçik şimdi daha canlı görünüyordu. Mertcan da daha mutlu bir şekilde evine gitti.

* İlk üç soruyu metne göre cevaplayınız.

1. Aşağıda verilen boşlukları metne göre doldurunuz.

20 Puan

Metinde Geçen Olay 5P.

.....

.....

Metindeki Kahramanlar 5P.

.....

.....

Olayın Geçtiği Yer 5P.

.....

.....

Olayın Geçtiği Zaman 5P.

.....

.....

2. Metne bir başlık koysaydınız, ne koyardınız?

5 Puan

.....

3. Hikâye ne demektir?

5 Puan

.....

4. Aşağıdaki cümleleri uygun bir şekilde tamamlayınız.

• Atasözü • Deyim

► Asırlar öncesinde oluşarak günümüze kadar gelen öğüt veya değerlendirme bildiren sözlere denir.

5 Puan

► Öz anlamlarından az çok ayrı anlam taşıyan kalıplaşmış kelime topluluğuna denir.

5 Puan

TÜRKÇE

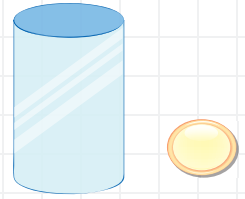
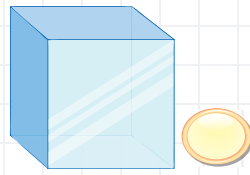
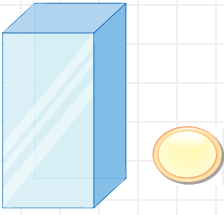
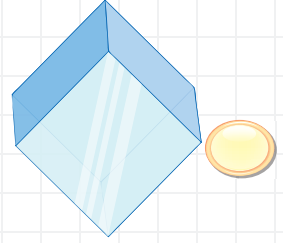
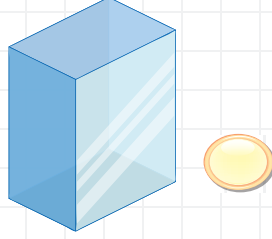
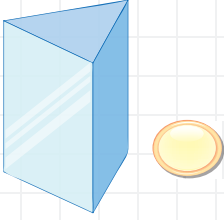
Haftanın Değerlendirmesi

5. Aşağıdaki yazıda boş bırakılan yere hangi noktalama işaretleri getirilmelidir? 2X5=10 Puan
- Annem, doktora sordu ()
- Ameliyat ne zaman ()
Doktor ()
() Yarın, dedi ()
6. Aşağıdaki cümlelerde verilen boşlukları uygun bir şekilde doldurunuz. 2X5=10 Puan
- Cümlenin sonuna getirilen noktalama işareti
- Sıralı cümleleri ayırmak için kullanılan noktalama işareti
- Soru sorulan cümlelerin sonuna getirilen noktalama işareti
- Üzüntü, sevinç, heyecan bildiren cümlelere işareti getirilir.
- Cümlenin bitmediğini, devam ettiğini göstermek için getirilir.
7. Aşağıdaki ifadelerden doğru olanların başına "D", yanlış olanların başına "Y" harfi yazalım. 2X5=10 Puan
- Her cümlenin sonunda nokta olmaz.
- Her cümle mutlaka büyük harfle başlar.
- Cümle sonlarında virgöl olabilir.
- Özel isimler hep küçük yazılır.
- Heyacan, korku bildiren cümle sonlarında soru işareti olur.
8. "Göz gözü görmüyordu." deyimi ne anlatmak istiyor? Yazınız. 15 Puan
-
-
9. 15 Puan
- | | |
|----------|---------|
| Beyaz | Al |
| Kırmızı | Mektep |
| Okul | Talebe |
| Öğretmen | Muallim |
| Öğrenci | Ak |
- Yanda verilen kelimeleri eş anlamlarıyla eşleştiriniz.

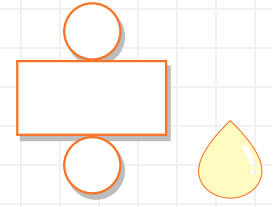
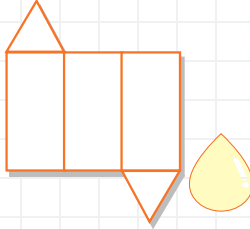
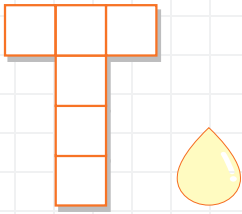
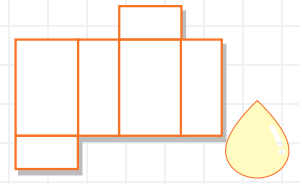
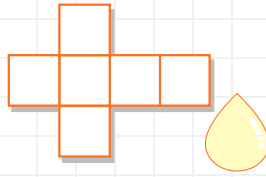
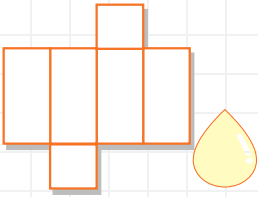
MATEMATİK

Açınımı Verilen Küpleri Oluşturma

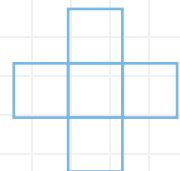
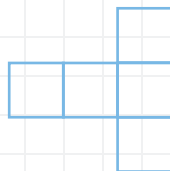
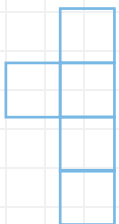
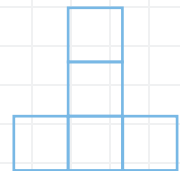
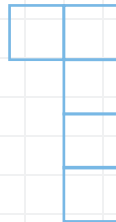
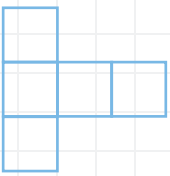
★ Aşağıdaki geometrik şekillerden küp olanları (✓) ile işaretleyiniz.



★ Aşağıdaki açınımlardan küpün açınımı olanları (✓) işaretleyiniz.



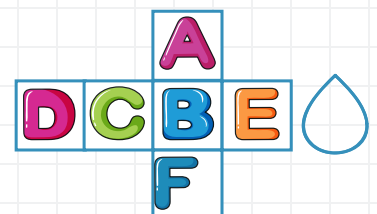
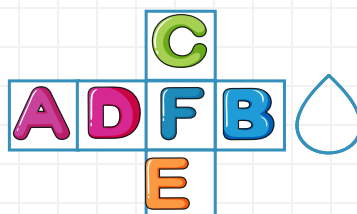





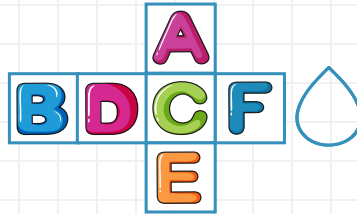

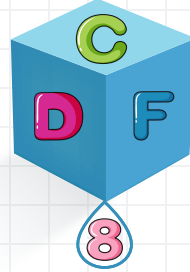


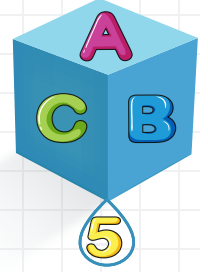


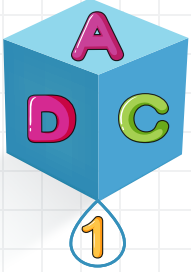
★ Açınımı bir küpe ait olması için eksik olan kareyi çiziniz.



MATEMATİK

Açınımı Verilen Küpleri Oluşturma

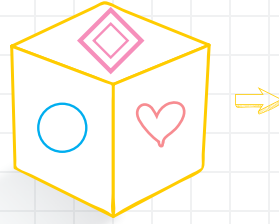
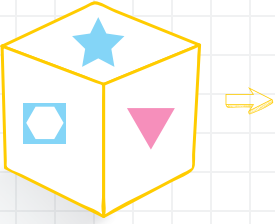
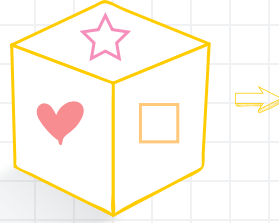
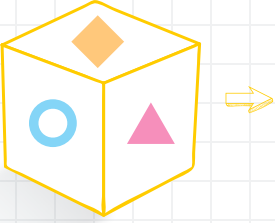
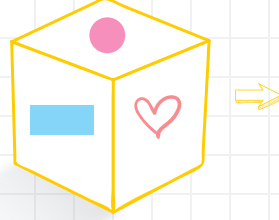
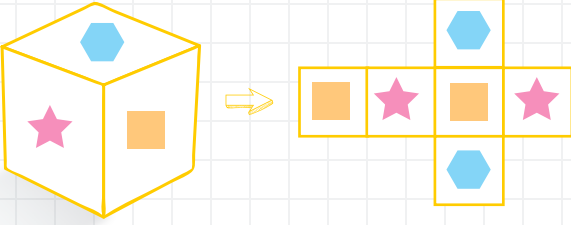
★ Aşağıda açınımı verilen küpleri eşleştiriniz.



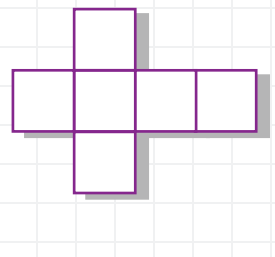
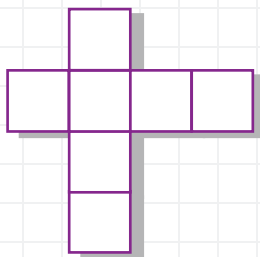
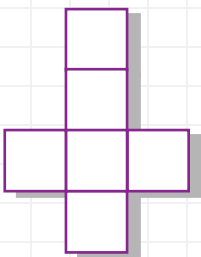
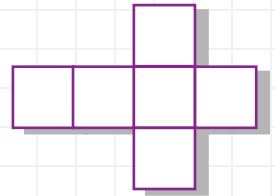
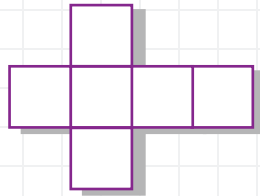
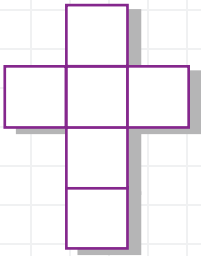
MATEMATİK

Açınımı Verilen Küpleri Oluşturma

★ Karşılıklı yüzleri aynı sembolle gösterilen küplerin açınımlarını örnekteki gibi çiziniz.




★ Açınımı verilen küplerin karşılıklı yüzlerini aynı renge boyayınız.



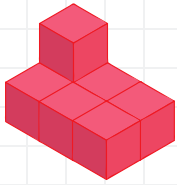
MATEMATİK

Eş Küplerle Yapı Oluşturma


★ Aşağıdaki izometrik kağıda oluşturulan yapıları çiziniz.



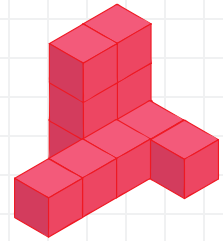
★ Aşağıdaki yapıların kaç eş küpten oluştuğunu yazınız.



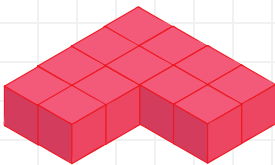
.....



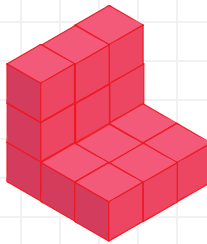
.....



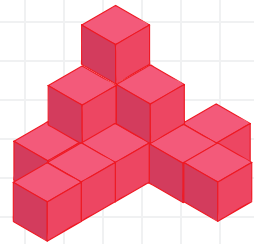
.....



.....



.....

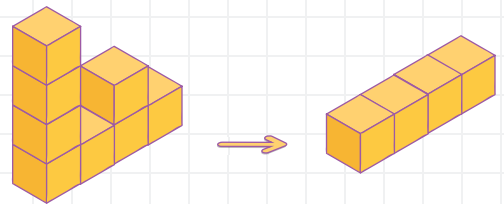
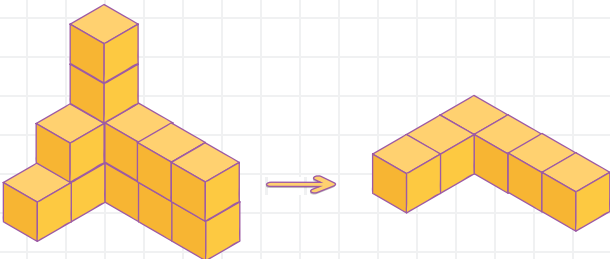
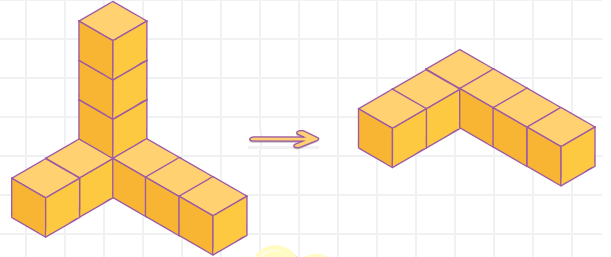
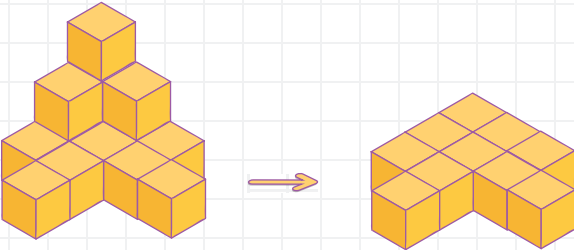
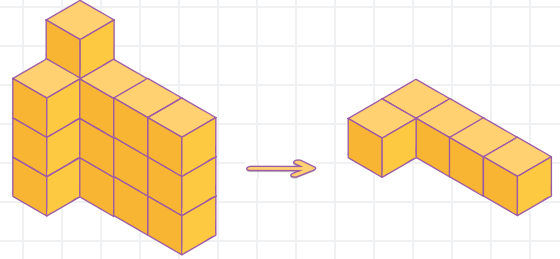
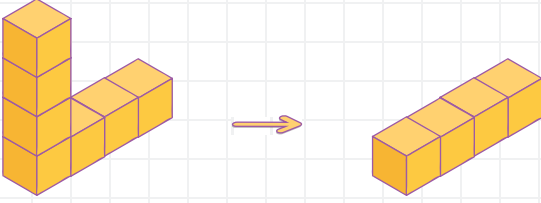
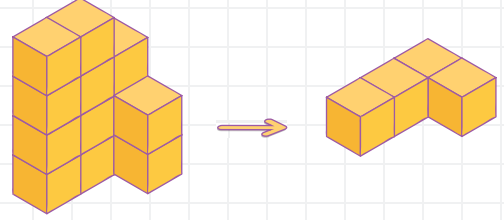
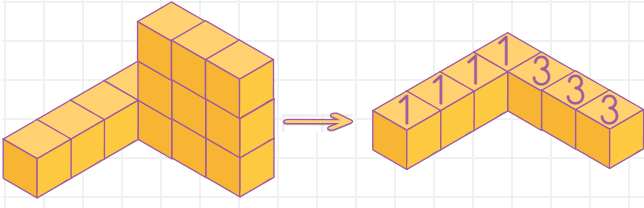


.....

MATEMATİK

Eş Küplerle Yapı Oluşturma

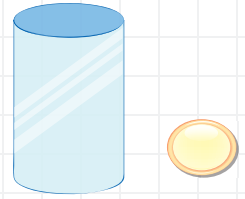
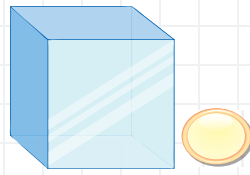
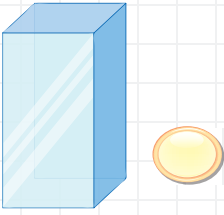
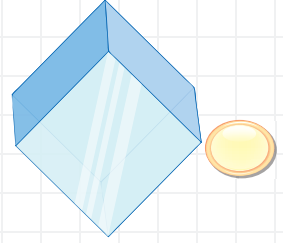
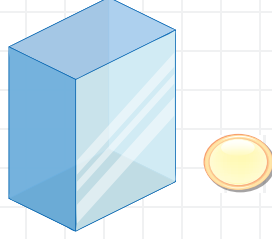
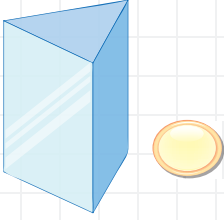
★ Aşağıdaki yapıların planlarını örnekteki gibi oluşturunuz. Kaç eş küpten oluşturduklarını bularak bulutların içine yazınız.



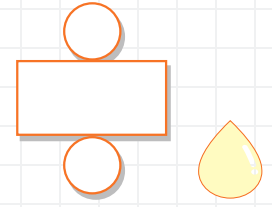
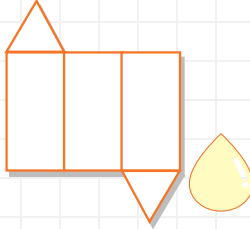
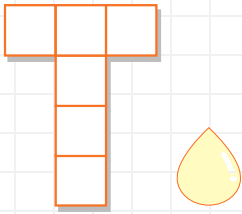
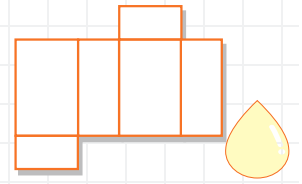
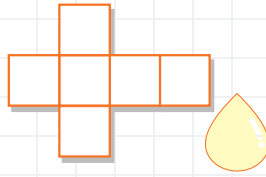
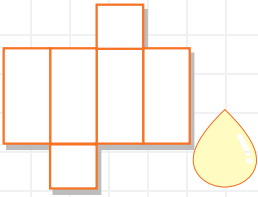
MATEMATİK

Açınımı Verilen Küpleri Oluşturma

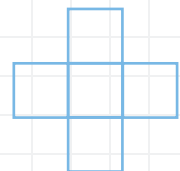
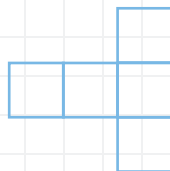
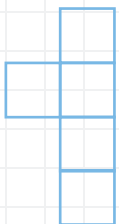
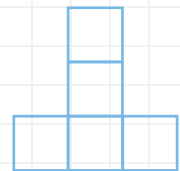
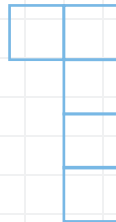
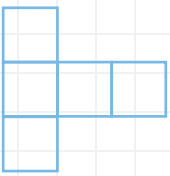
★ Aşağıdaki geometrik şekillerden küp olanları (✓) ile işaretleyiniz.



★ Aşağıdaki açınımlardan küpün açınımı olanları (✓) işaretleyiniz.



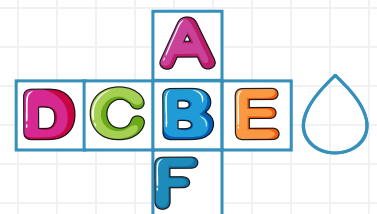
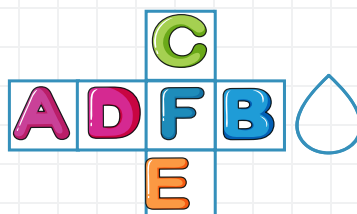





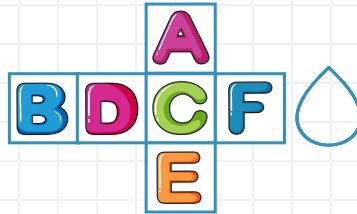


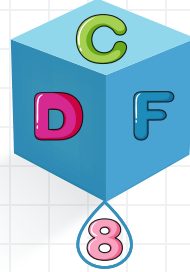


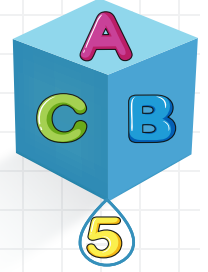



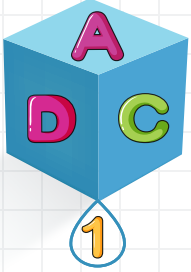
★ Açınımı bir küpe ait olması için eksik olan kareyi çiziniz.



MATEMATİK

Açınımı Verilen Küpleri Oluşturma

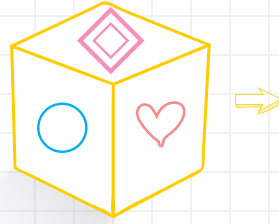
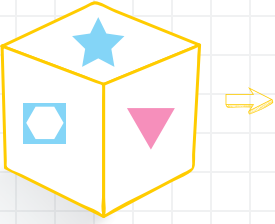
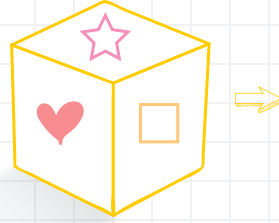
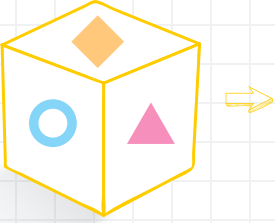
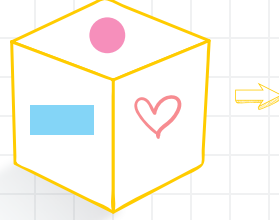
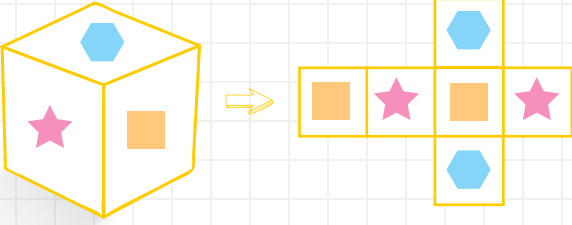
★ Aşağıda açınımı verilen küpleri eşleştiriniz.



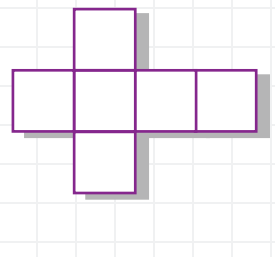
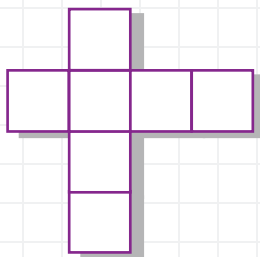
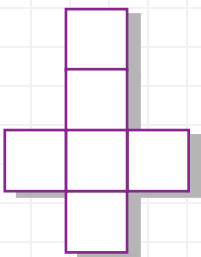
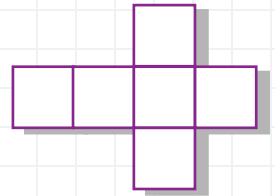
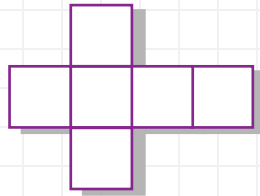
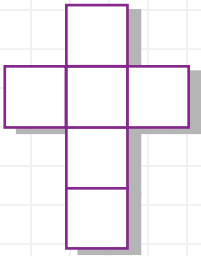
MATEMATİK

Açınımı Verilen Küpleri Oluşturma

★ Karşılıklı yüzleri aynı sembolle gösterilen küplerin açınımlarını örnekteki gibi çiziniz.




★ Açınımı verilen küplerin karşılıklı yüzlerini aynı renge boyayınız.



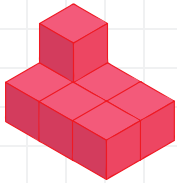
MATEMATİK

Eş Küplerle Yapı Oluşturma


★ Aşağıdaki izometrik kağıda oluşturulan yapıları çiziniz.



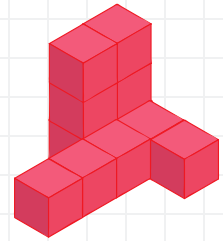
★ Aşağıdaki yapıların kaç eş küpten oluştuğunu yazınız.



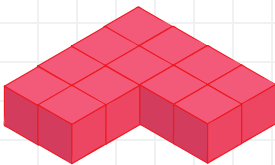
.....



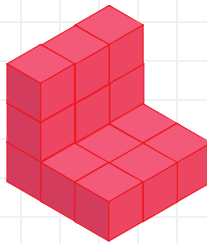
.....



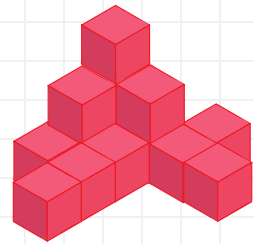
.....



.....



.....

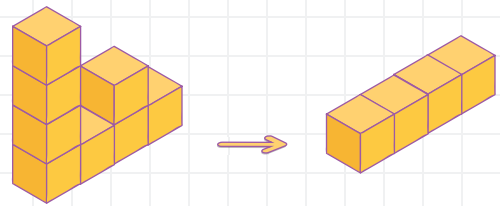
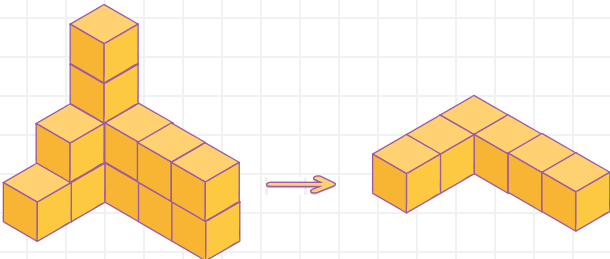
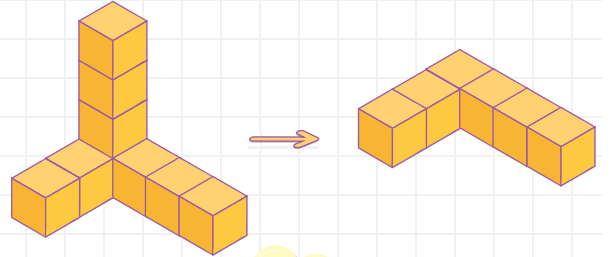
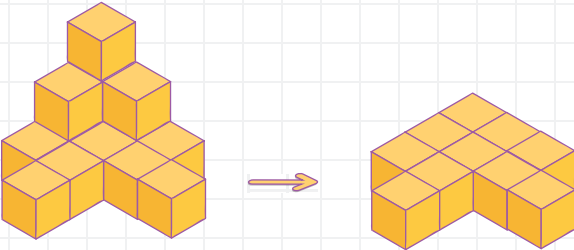
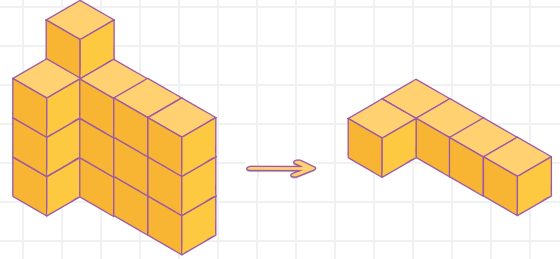
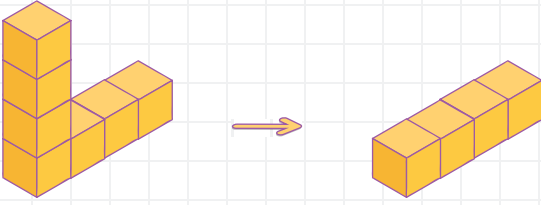
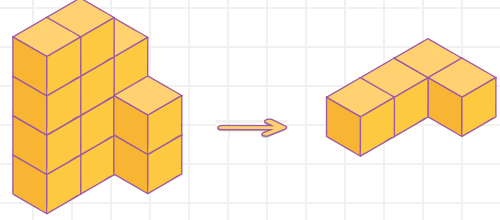
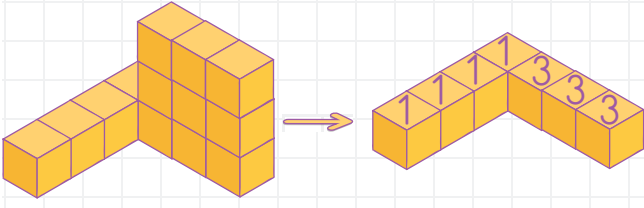


.....

MATEMATİK

Eş Küplerle Yapı Oluşturma

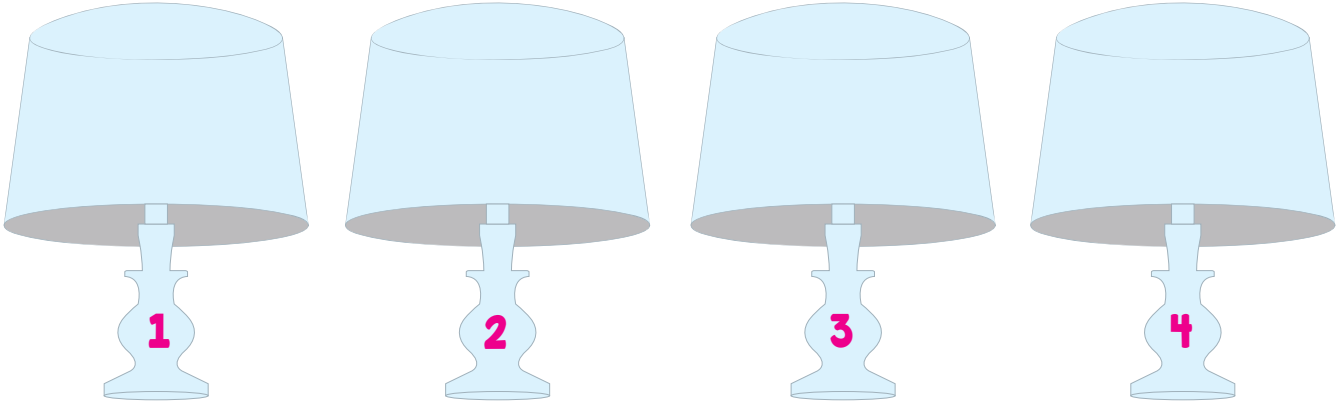
★ Aşağıdaki yapıların planlarını örnekteki gibi oluşturunuz. Kaç eş küpten oluştuklarını bularak bulutların içine yazınız.





★ Yandaki ampullere ışık kirliliğinin nedenlerini yazınız.

★ Işık kirliliğine karşı alınacak önlemleri aşağıya yazınız.



★ Aşağıdaki cümleleri okuyunuz. Doğru olan bilgilere "D", yanlış olan bilgilere "Y" yazınız.


☀️ Aydınlatma teknolojilerindeki en önemli buluşlardan biri ampuldür.

☀️ Geceleri aydınlatmaya duyulan ihtiyaç, aydınlatma teknolojilerine daha çok ilgi duyulmasını sağlar.

☀️ Işık kirliliği çevre kirliliği demektir.

★ Aşağıdaki cümleden yola çıkarak görsellere hangi canlıların ışık kirliliğinden etkilendiğini yazınız.

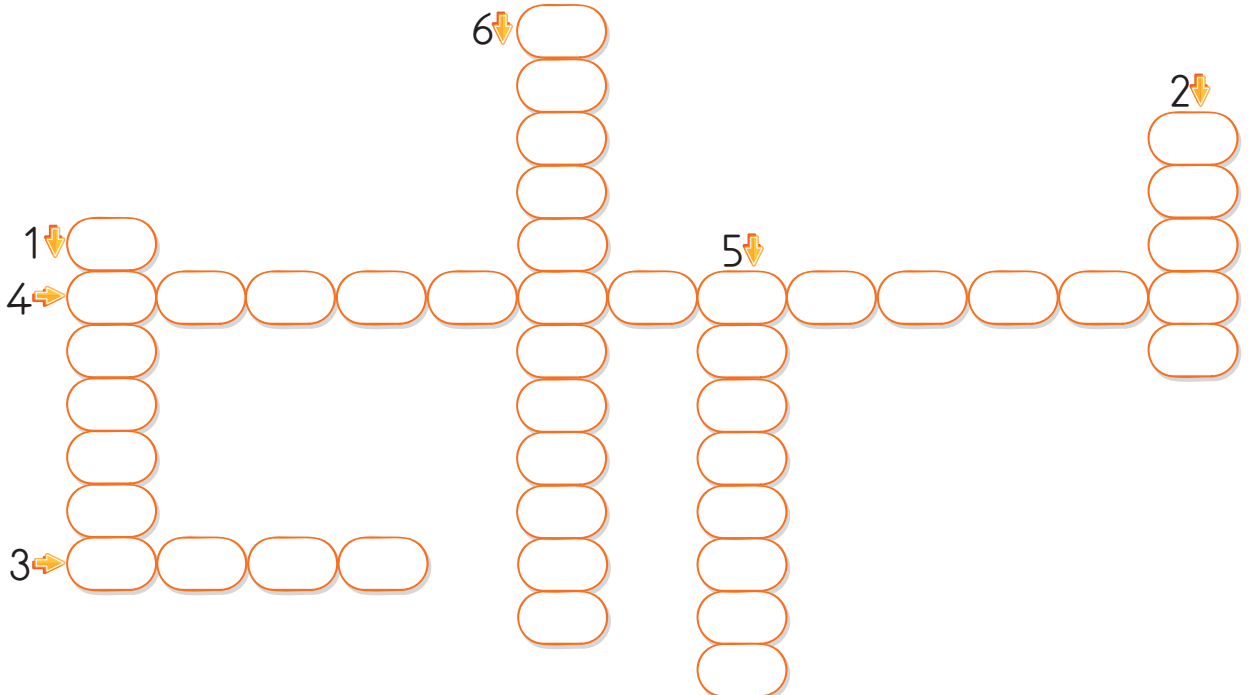
Işık kirliliği canlıları da etkilemektedir.



★ Aşağıdaki cümleleri uygun kelimelerle tamamlayıp bulmacaya yazınız.

1. Işık kirliliği doğal hayat ve canlılar için dir.
2. Işık kirliliği önemli bir sorundur.
3. Önlem alınarak kirliliği azaltılabilir.
4. Gereksiz yapılan ışık kirliliğine neden olur.
5. Ses sonucunda oluşur.
6. Ay, Güneş tarafından bir gök cisimidir.

- titreşim
- zararlı
- ışık
- aydınlatmalar
- çevre
- aydınlatılmış



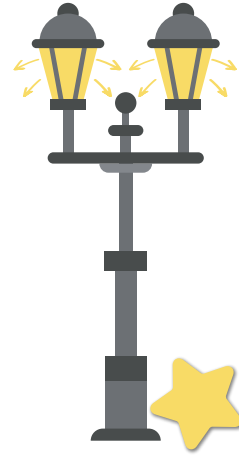



FEN BİLİMLERİ

Işık Kirliliği






★ Işık kirliliği ne demektir? Açıklayınız.

.....
.....
.....

★ Karanlık bir sokağı aydınlatmak için şekildeki aydınlatma direklerinden hangileri seçilirse ekonomik olarak daha iyi aydınlatır?



★ Aşağıdaki aydınlatma araçlarının icat edilme sırasına göre numaralandırınız.

-  Karbon flamanlı ampul
-  Gaz lambası
-  Kandil
-  Halojen lamba
-  Led lamba

★ Aşağıda verilen kelime gruplarının anlamlarını yazınız.

● Işık taşma :

● Dikine ışık :

● Işık parlaması :

SOSYAL BİLGİLER

Bilinçli Tüketici

A Aşağıdaki verilen cümleleri okuyunuz. Hangisi bilinçli bir tüketicide olması gereken özelliklerdir? '✓' işareti koyunuz.

- Sağlığım için alacağım besinlerin içeriklerine bakarım.
- Alışveriş sonrasında herhangi bir belge almam.
- İhtiyaçlarım doğrultusunda alışveriş yaparım.
- Ürünü aldıktan sonra fatura ve fişini kontrol ederim.
- Ürünleri alırken reklamların etkisinde kalırım.

B Bir satıcı aşağıdaki hangi üründen alırken garanti belgesi vermelidir? '✓' işareti koyunuz.



C Aşağıdaki ifadelerden doğru olanlara gülen yüz, yanlış olanlara üzgün yüz yapınız.

- Bir marketten aldığım ürün bozuk çıkarsa çöpe atar, bir daha o markete gitmem.
- Garanti belgesi bir ürünü alırken çok önemlidir.
- Uygun olan hiçbir ürünü kaçırmam, alırım.
- Tüketici haklarını bilir, ona göre davranırım.
- Aldığım ürünün son tüketim tarihine bakarım.

SOSYAL BİLGİLER

Bilinçli Tüketici

A Aşağıdaki boşlukları uygun kelimelerle tamamlayınız.

tüketici danışma hattı - garanti belgesi - alışveriş listesi - fiyat araştırması - fatura -

- Bir yerin başka yerlerdeki fiyatına ve bütçesine uygun olup olmadığına bakmak yapmaktır.
- Düzenli alışveriş için yaptığımız liste dir.
- Satın aldığımız ürünle ilgili memnuniyetsizliğimizi ve şikayetlerimizi bildirdiğimiz yer dir.
- Alınan bir ürünün belli bir zaman aralığında bozulması durumunda ücretsiz onarım sağlayan belge, dir.
- Yapılan alışverişin varlığını gösteren belge dir.

B Aşağıdaki boşlukları uygun kelimelerle tamamlayınız.

bütçesine

bilinçli

ihtiyaçları

haklarını

- ★ Bilinçli tüketici satın aldığı malın uygun olup olmadığına dikkat eder.
- ★ Bilinçli tüketici bilir ve sahip çıkar.
- ★ Bilinçli tüketici kaynakları kullanır.
- ★ Bilinçli tüketici kaynakları kadar kullanır.

C Aşağıdaki kısaltmaları verilen derneklerin açılımını kutuların içine yazınız.

TÜKODER

THD

TÜDER

TÜMER

--	--	--	--


D Yukarıda adları verilen derneklerin ortak görevleri nelerdir?

.....

SOSYAL BİLGİLER

Bilinçli Tüketici

A Sizin gibi dördüncü sınıfa giden arkadaşınız Ahmet, "bilinçli bir tüketicinin özellikleri" konusuyla ilgili liste hazırlayacak. Bu listede olması gerekenleri yazarak Ahmet'e yardım eder misiniz?




B Aşağıdaki görsellerde verilen ürünlerin üretim, dağıtım ve tüketim aşamalarında neler yapıldığını yazınız.



Üretim :

Dağıtım :

Tüketim :



Üretim :

Dağıtım :

Tüketim :



Üretim :

Dağıtım :

Tüketim :



Üretim :

Dağıtım :

Tüketim :



Üretim :

Dağıtım :

Tüketim :



Üretim :

Dağıtım :

Tüketim :

SOSYAL BİLGİLER

Bilinçli Tüketici

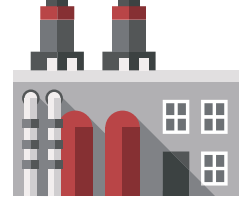
★ Aşağıda pamuğun tüketiciye ulaşma aşamaları görsellerle anlatılmıştır. İlk iki aşama yazılmış. Diğer görsellerde neler yapıldığını siz yazınız.



Pamuğu tarladan topladık.



İp olmak için iplik fabrikasına getirdik



.....
.....



.....
.....



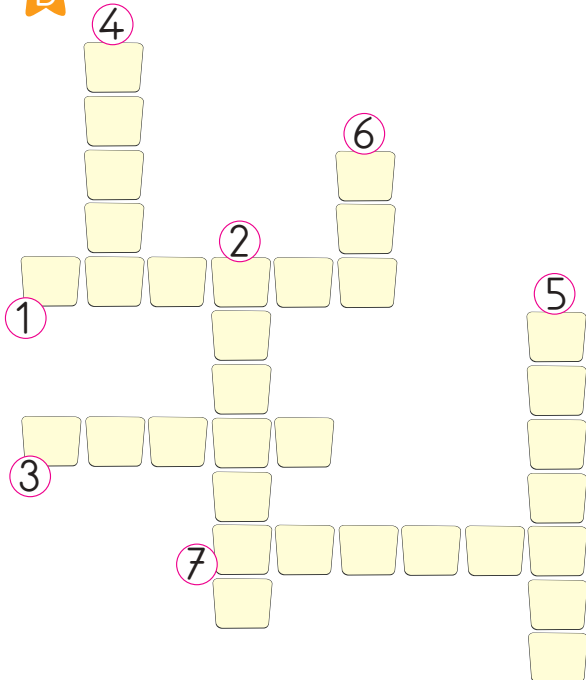
.....
.....



.....
.....



B



1. Toplumun ihtiyacı olan ürünleri sağlamak için yapılan çalışmalara verilen addır.
2. Mağazalara satılan ürünlerin satın alınarak kullanılmasına verilen addır.
3. Herhangi bir ürünü yetiştirmek, tüketime hazır hale getirmek için harcanan paraya verilen addır.
4. Yetiştirilen veya üretilen ürünlerin satışından elde edilen kazançtır.
5. Üretilen ürünlerin marketlere, fabrikalara satılmasına verilen addır.
6. Bir ürünün işlenmemiş haline madde denir.
7. Ham maddeyi veya yeni mamülü işleyerek bir sanayi ürünü, bir mal üretme işlemlerinin bütününe verilen addır.

SOSYAL BİLGİLER

Haftanın Değerlendirmesi

1. Ürünün reklamına,
 Üretim tüketim tarihlerine,
 Fiyatı ve kalitesine,
 İsteklerimize,
 İhtiyaçlarımıza,

10 Puan


Yandaki verilen cümleleri okuyunuz.
Alışveriş yaparken hangilerine dikkat
etmeliyiz? "✓" işareti koyunuz.

2. Aldığımız ürün hatalı veya bozuk çıkarsa, değiştiremez veya
paramızı geri alamazsak hakkımızı nerelerde aramalıyız?

15 Puan

3. Aşağıdaki ürünlerden hangilerinin garanti belgesi olması
zorunludur? İşaretleyiniz.

12 Puan



- 4.

8 Puan



Türk standartlarına uygun üretilmiştir.



Çöpe atın.



Türkiye'de üretilmiştir.



Kırılacak eşya var.

Yukarıdaki logo ve eşleştirmelerden hangisi yanlıştır? "✓" işareti koyunuz.

SOSYAL BİLGİLER

Haftanın Değerlendirmesi

5. Aşağıdaki ifadelerden doğru olanların başına "D", yanlış olanların başına "Y" harfi yazalım. **3X5=15 Puan**

- Alışveriş yaptıktan sonra fiyat araştırması yapmalıyız.
- Barınma lüks bir ihtiyaçtır.
- Son kullanma tarihi geçmiş ürünleri almalıyız.
- Bilinçli tüketici, alacağı ürünün kalitesine dikkat eder.
- Bilinçli tüketici, ihtiyacı olmayan ürünü satın almaz.

6. **5X3=15 Puan**

- Çiftçinin patatesi toplaması
 - Çiftçinin patatesi ekmesi
 - Çiftçinin patatesi manava satması
 - Annenin manavdan patates alması
 - Yemekte patates yememiz
- ★ Patatesin üretim, dağıtım ve tüketim aşamalarını sırasıyla yazınız.





7. **10 Puan**

- Kitapların kitabevine ulaşması
 - Kitabın basımı
 - Kitabın okunması
 - Kitabın ciltlenmesi
- ★ Yanda verilen aşamalardan hangisi dağıtım aşamasıdır? "😊" yapınız.

8. ► Bir ürünün üretilmesi için gerekli olan maddenin işlenmeden önceki son haline denir. **3X5=15 Puan**

- Ürün satış noktalarına ulaştırılmasına denir.
- Bir maddenin yapısı değiştirilerek elde edilen farklı maddelere denir.
- Kamyon şoförü aşamasında çalışan bir görevlidir.
- Doğal maddelerin bir takım işlemlerden geçirilmesiyle elde edilen maddeler maddedir.



- Aşağıdaki cümlelerden hangisinde virgül kaldırıldığında cümlenin anlamı değişir?
A) Evde sehpa, masa ve sandalye vardı.
B) Ankara'ya geliyorum, dedi.
C) Koşarak gitti, bakakaldım.
D) Dilenci, adama bağırarak seslendi.
- Aşağıdakilerden hangisi noktanın kullanıldığı yerlerden biri değildir?
A) Kısaltmalar
B) Sıra bildirme
C) Saat ve dakikayı ayırmada
D) Hitap sözlerinde
- Milli marşımızın şairi aşağıdakilerden hangisidir?
A) M. Akif Ersoy
B) M. Kemal Atatürk
C) H. Edip Adıvar
D) İsmet İnönü
- "Pireyi deve yapmak" deyimini ile aynı anlama gelen deyim hangisidir?
A) Kulağına küpe olmak.
B) Göz kulak olmak.
C) Hanyayı Konya'ya göstermek.
D) Habbeyi kubbe yapmak.
- İki veya daha fazla kelimenin kendi anlamlarının dışında bir anlamı ifade etmek amacıyla oluşturdukları söz grubuna ne ad verilir?
A) Zıt Anlam
B) Abartma
C) Atasözü
D) Deyim
- "Alışkanlıkları değiştirmek çok zordur." anlamına gelen atasözü hangisidir?
A) Arayan bulur, inleyen ölür.
B) Can çıkar, huy çıkmaz.
C) Damlaya damlaya göl olur.
D) Yolcu yolunda gerek.
- Aşağıdakilerden hangisinde kesme işareti (') doğru kullanılmıştır?
A) Türklük
B) Kalem'ler
C) İngiliz'ce
D) Ali'ye
- "Çabuk gelin, imdat()" cümlesinin sonuna ne gelir?
A) 
B) 
C) 
D) 

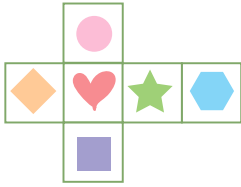
9.



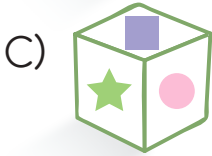
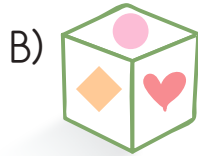
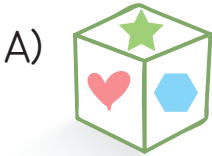
Yukarıdaki küpün açınımlı hangisidir?



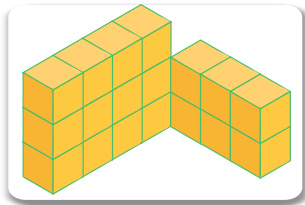
10.



Yukarıda açınımlı verilen küp aşağıdakilerden hangisidir?



11.



Yukarıdaki yapı kaç eş küpten oluşmuştur?

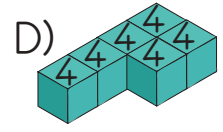
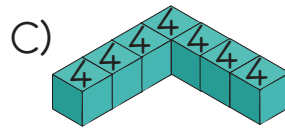
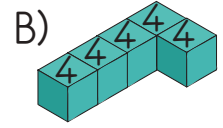
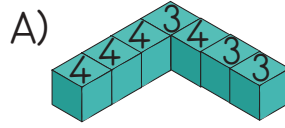
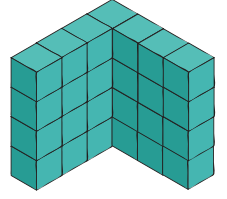
A) 10

B) 12

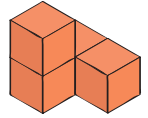
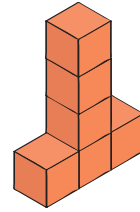
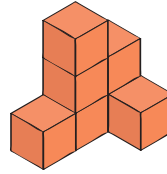
C) 18

D) 20

12. Yandaki yapıya ait plan hangi seçenekte doğru verilmiştir?



13.



Yukarıda verilen yapıların eş küp sayıları hangi seçenekte doğru verilmiştir?

	I.	II.	III.
A) 6	7	4	
B) 7	6	4	
C) 7	4	6	
D) 6	5	7	

14. Bir sokak lambası yere değil de gökyüzüne doğru aydınlatma yapıyor. Bu neye sebep olur?

- A) Deniz kirliliğine
B) Doğal afetlere
C) Işık kirliliğine
D) Tasarrufa

15. Bir yerde ışık kirliliğini nasıl anlarız?

- A) Evlere bakarak.
- B) Yıldızla bakarak.
- C) Hayvan sayısına bakarak
- D) Trafiğine bakarak

16. Işık kirliliğine sebep olmayan ışık kaynağı hangisidir?

- A) Şehir ışığı
- B) Ateş böceği
- C) Sokak lambası
- D) Reklam panosu

17. Işık kirliliği sonucu hangi organımız zarar görür?

- A) Göz
- B) Kulak
- C) Deri
- D) Burun

18. Aşağıdaki varlıklardan hangisini karanlıkta görmek daha zordur?

- A) Ay
- B) Ağaçlar
- C) Trafik Levhaları
- D) Fosforlu Kalemler

19. Bilinçli tüketici aşağıdakilerden hangisini yapmaz?

- A) İhtiyacına göre alışveriş yapar.
- B) Bütçesine göre alışveriş yapar.
- C) Alacağı ürünün kalitesine bakmaz.
- D) Geri dönüşümlü malzeme kullanır.

20. Aşağıdaki şehirlerin hangisinde ışık kirliliği en fazladır?

- A) İstanbul
- B) Kocaeli
- C) Artvin
- D) Van

21. Kaynaklarımızı bilinçli kullanmak için ne yapmalıyız?

- A) İsrar
- B) Para harcamalıyız
- C) Cimrilik
- D) Tasarruf

22. Aşağıda adları verilen derneklerin hangisi tüketici haklarını korumak için çalışmamaktadır?

- A) TÜMER
- B) TÜKODER
- C) THD
- D) TSE

23. Bozuk bir malı satıcı geriye almazsa nereye başvururuz?

- A) Tüketiciji Koruma Derneği
- B) İnsan Hakları Derneği
- C) Mahkemeye
- D) Hayvanları Koruma Derneği

24. Üretilen bir ürün tüketiciye ulaşın-
caya kadar hangi aşamalardan
geçer?

- A) Üretim - fabrika dağıtım
- B) Üretim - tüketim
- C) Üretim - fabrika - dağıtım -
tüketim
- D) Üretim - tüketim - fabrika -
dağıtım

25. Tüketici Hakları Evrensel
Beyanesi'ne göre; beslenme, barın-
ma, temel sağlık koşul ve hizmetle-
rinden yararlanabilme, ısınma, ay-
dınlanma, ulaşım, haberleşme gibi
haklar hangi hakları oluşturur?

- A) Ürün seçme hakkı
- B) Bilgilendirme hakkı
- C) Temel ihtiyaçların karşılanma
hakkı
- D) Sağlık ve güvenlik korunma hakkı

26. Alışveriş yaparken hangisine dikkat
etmeyiz?

- A) Ürünün fiyat etiketine
- B) Son kullanma tarihine
- C) TSE damgasına
- D) Paketin güzelliğine

27. Tüketici hakları ile ilgili olarak han-
gisi doğrudur?

- A) Ürünü satın alınca tüketici hak-
kımızı kaybederiz.
- B) Satıcı şikayetimizi dinlemezse
yenisini almamız gerekir.
- C) Yasal olarak tüketici haklarımızı
kullanmalıyız.
- D) Satıcıya yapılan şikayeti zorla
kabul ettirmek gerekir.

28. Kamyonu yüklenen malların ülkenin
farklı yerlerine gönderilmesi hangi
aşamadır?

- A) Tüketim
- B) Dağıtım
- C) Satış
- D) Üretim