

KÜÇÜK ÇOCUK

Güneş ufkun kenarından
Yavaş yavaş yükseliyor.
Köyün yeşil dağlarında
Serin nefesler geliyor.

Beyaz, sarı, mavi renk renk
Çiçekler açmış ovada.
Kelebekler, benek benek
Dolaşıyorlar havada.

Gece yorgun akan ırmak
Tatlı seslerle coşuyor.
Artık herkes uyanarak
Kendi işine koşuyor.

Yalnız küçük bir çocuk,
Karşıdaki evde uykuda
Uyanacak şimdi o da.

Köydeki bütün horozlar
Diyorlar ki: "Uyan uyan!"
Tembel olur çok uyuyan.

O. S. ORHON



(Aşağıdaki ilk beş soruyu metne göre cevaplayınız.)

Şiire göre kimler tembel olurmuş?

.....

Hangi renk çiçekler açmış?

.....

Köydeki bütün horozlar ne diyormuş?

.....

Şiirdeki ana tema nedir?

.....

TÜRKÇE


Metni Okuma - Anlama

★ Aşağıdaki bulmacada şiirde geçen bazı kelimeler gizlenmiştir? Kelimeleri bularak anlamını bilmediğimiz kelimeleri sözlükten araştırınız.

G	Y	E	Ş	İ	L	G	E	C	E
T	Ü	S	E	S	B	E	N	E	K
T	T	N	E	F	E	S	B	İ	R
Ç	İ	Ç	E	K	T	A	T	L	İ
M	A	V	İ	Ş	T	R	E	N	K
Ç	O	C	U	K	T	İ	O	V	A

Anlamını bilmediğiniz kelimeler :

1.
2.
3.
4.
5.
6.
7.
8.
9.
10.
11.
12.
13.



bitiş 1 bitiş 2 bitiş 3

(.) (?) (!)

(.) (...) (..)

(!) (!) (!) (!)

(.) (.) (!) (.)


(?) (.) (!) (.)

(.) (.) (.)

(?) (?) (?) (!)

başlangıç 1 başlangıç 2 başlangıç 3 başlangıç 4

- ✿ Ben size ne dedim ()
- ✿ Öteki () bundan daha güzel ()
- ✿ Eyvah () yangın büyüyor ()
- ✿ Öyle yorgunum ki ()
- ✿ Cevap versene () sana sordum.

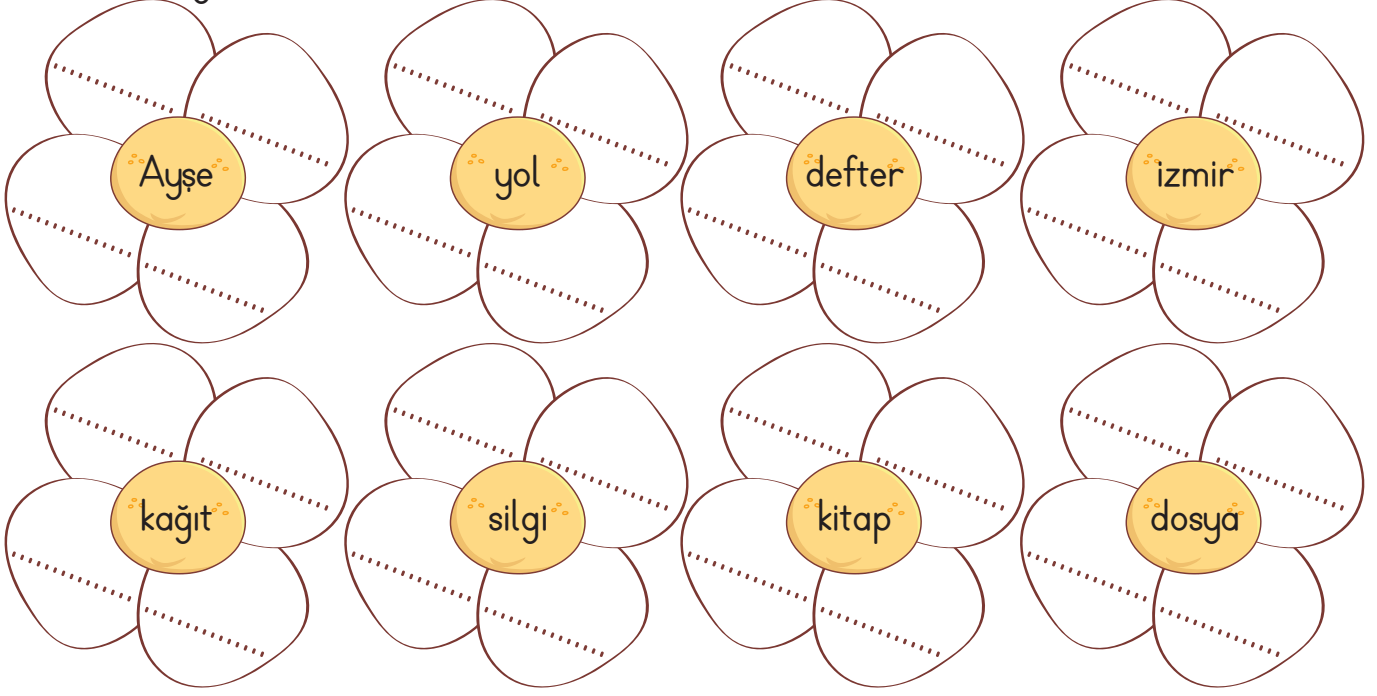


★ Yukarıdaki verilen cümlelere uygun noktalama işaretlerini koyunuz. Noktalama işaretinin yolundan giderek çıkışı bulunuz.

TÜRKÇE

İsmin Halleri

★ Aşağıdaki yalın halleri verilen isimlere diğer hal eklerini getirerek çiçekleri tamamlayınız.



★ Aşağıdaki tabloda boş bırakılan yerleri uygun hal ekleri ile tamamlayınız.

Yalın	-i hali	-e hali	-de hali	-den hali
bardak	bardağa	bardaktan
makas	makası
.....	pencereye
.....	elmada
terzi	terzide

TÜRKÇE

Noktalama ve Yazım Kuralları

★ Aşağıdaki cümlelerin doğrusunu altındaki boşluğa yazınız.

Yarın 22 mart 2018

Annem Ankaraya gitti.

Teyzem ellibeş yaşında.

Sen okula gidecekmisin

Keşek herkez gaste okusa!

Öğretmen keloğlanı herkez okusun dedi.

Alide kırmızı başlık kızı okumadı

Amcam 10 aralık 1965 yılında Çanakkalede doğmuş.

Okulda ayşeyi gördüm.

Orhanın kitabı yırtılmış.

★ Aşağıdaki kutucuklarda yazılanları inceleyiniz. Doğru yazılanları maviye, yanlış yazılanları kırmızıya boyayınız.

picama	kiprik	malatyanın	Uludağ'a	Sınıf Başkanı
Erayın defteri	Bende yazarım	Alı'nın kalemi	Efese gidiyoruz.	THY'nin
Kedi'miz	İstanbulu	Selim'in memleketi Eskişehirdir.	Saat 08=30'da burada ol.	yaprak
Gel de gidelim.	Pazardan Elma aldık.	Gelirmisin	herkez	Bahçede çiçek var.

TÜRKÇE

Noktalama ve Yazım Kuralları

★ Aşağıda büyük harflerin kullanıldığı bazı yerler verilmiştir. Altındaki boşluklara bir tane örnek veriniz.

Cümlelerin ilk harfi her zaman büyük yazılır.

.....

Sesleniş ve hitap kelimeleri büyük harfle başlar.

.....

Şiirlerin her mısrası büyük harfle başlar.

.....

★ Aşağıda boşlukları uygun kelimelerle tamamlayınız.

● Herhangi bir konuda bilgi vermek amacıyla yazılan metinlere

..... denir.

● Duygu, düşünce ve hayallerin uyumlu kelimelerle anlatıldığı metin türüne

..... denir.

● Yaşantılarımızı, ilişkilerimizi, duygu ve düşüncelerimizi tarih belirterek günü güne yazılmasına denir.

● Olağanüstü olay ve kahramanların olduğu metin türlerine

..... denir.

bilgilendirici metin

masal

şiir

günlük

Bisikletim Vız Vız

Babaları söz vermişti. O gün işten erken gelecekti. Birlikte bisiklet almaya gideceklerdi.

Bisiklet satıcısı güler yüzlü bir insandı. Ali ile Hilmi hemen her gün bu dükkana uğrarlardı. Onun için satıcı onları çok iyi tanıyordu.

-Gelin bakalım, gelin, dedi. Evet, senin mavi orada duruyor, senin kırmızıda burada... İkisinde tozunu aldım. Bisikletleriniz hazır.

İkisi de bisikletlerin dümeninden tuttu. Bisiklet satıcısı:

-Çok dikkatli binin çocuklar, dedi. Yolun sağından gidin. Bisikletin üzerinde cambazlık yapmayın. Hızlı da sürmeyin dedi.

İkisinde bisikletlerine bindiler. Ali'nin babası:

-Ne duruyorsunuz, dedi. Haydi, siz gidin!



İkisinde sanki bu sözü bekliyormuş gibi basıverdi pedallara. Kırmızı cızladı, mavi vızladı. Ali'yle Hilmi'nin en mutlu günlerinden biriydi bugün.



Muzaffer İZGÜ

(Aşağıdaki ilk beş soruyu metne göre cevaplayınız.)

1. Metnin türü nedir?

10 Puan

.....

2. Bisiklet satıcısı çocukları hangi konuda uyarıyor?

10 Puan

.....

3. Metnin kahramanları kimlerdir?

10 Puan

.....

4. Metinde anlatılan olay nedir?

10 Puan

.....

5. Siz olsaydınız metnin başlığını ne koyardınız?

10 Puan

6. Aşağıdaki isimleri ismin hallerine göre yazınız.

5x4=20 Puan

	Yalın	-i hali	-e hali	-de hali	-den hali
bardak					
cam					
vazo					
insan					

7. Büyük harflerin kullanıldığı yerlerden dört tanesini örnekle açıklayınız.

5x4=20 Puan

1.

2.

3.

4.

8. Masal ve şiir ne demektir? Yazınız.

10 Puan


Masal :

Şiir :

MATEMATİK

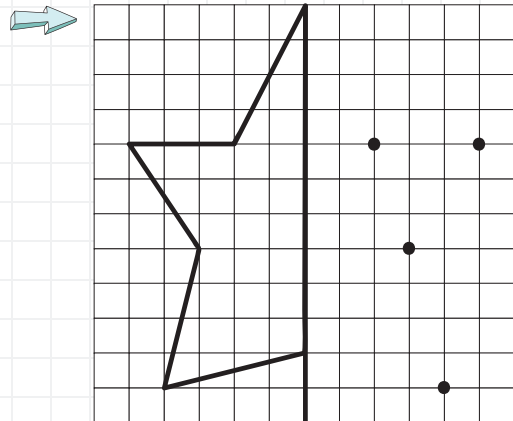
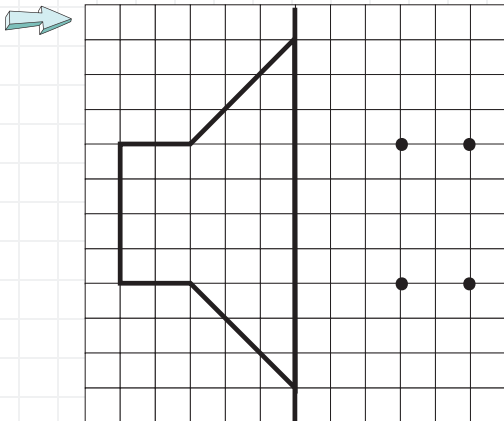
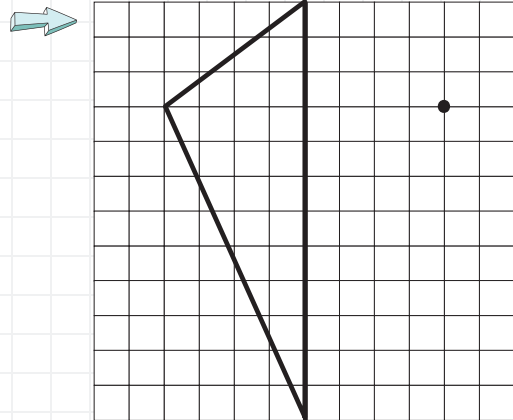
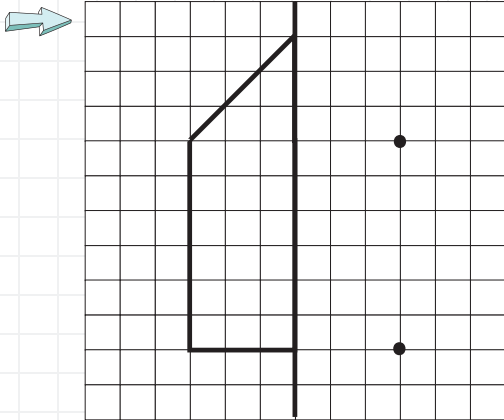
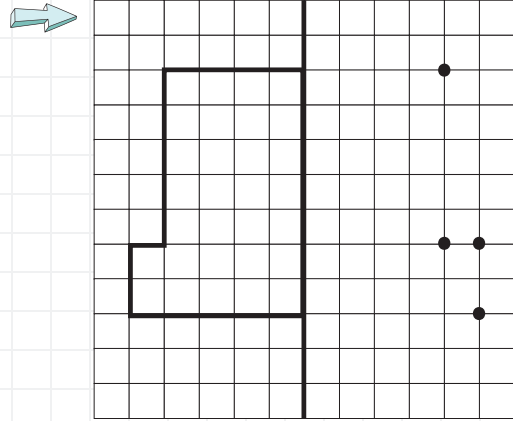
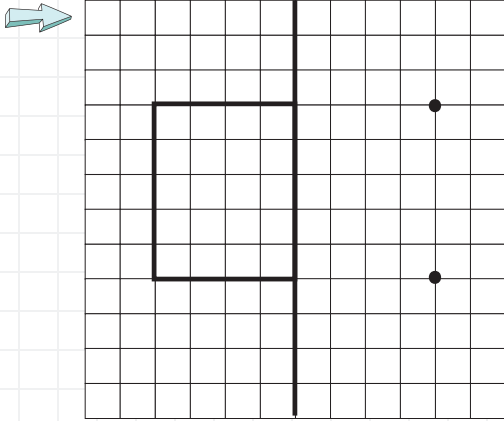
Ayna Simetrisi

Siz de
aynada kendi
simetrisinizi
uygulayınız.



Siz de
aynada kendi
simetrisinizi
uygulayınız.

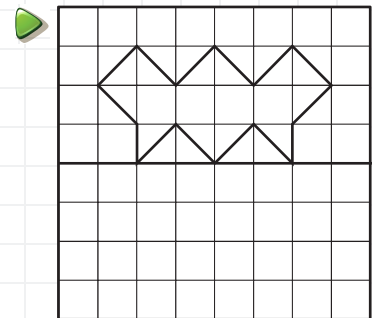
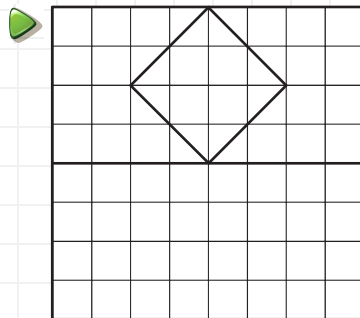

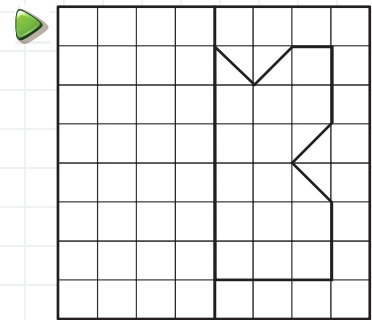
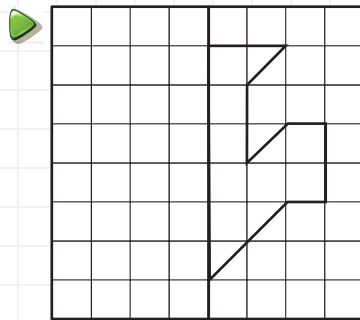
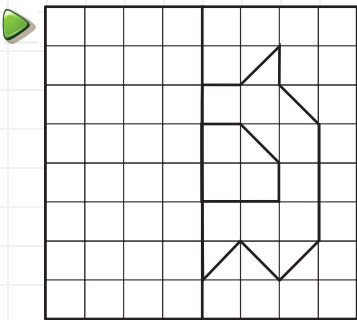
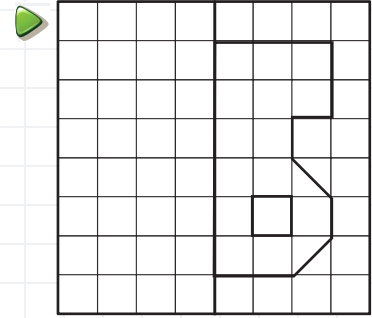
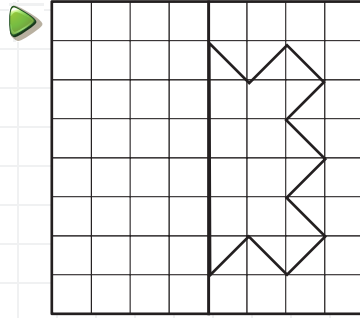
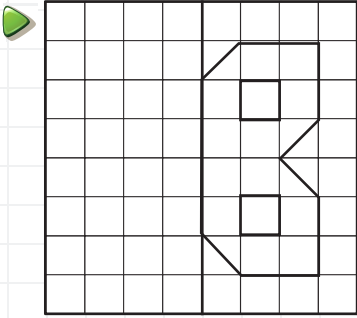
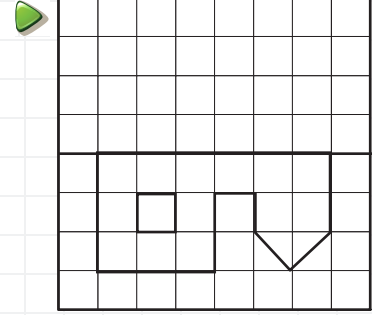
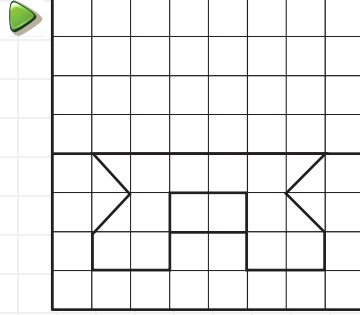
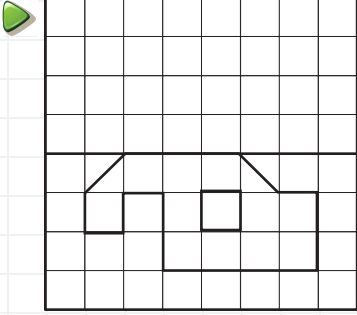
★ Aşağıdaki şekillerin verilen simetri doğrularına göre simetriğini çizerek şekilleri tamamlayınız.



MATEMATİK

Ayna Simetrisi


★ Aşağıdaki şekillerin simetri doğrusuna göre çizip şekilleri tamamlayınız.




MATEMATİK

Simetri

★ Aşağıdaki şekillerin simetri doğrularını çiziniz.



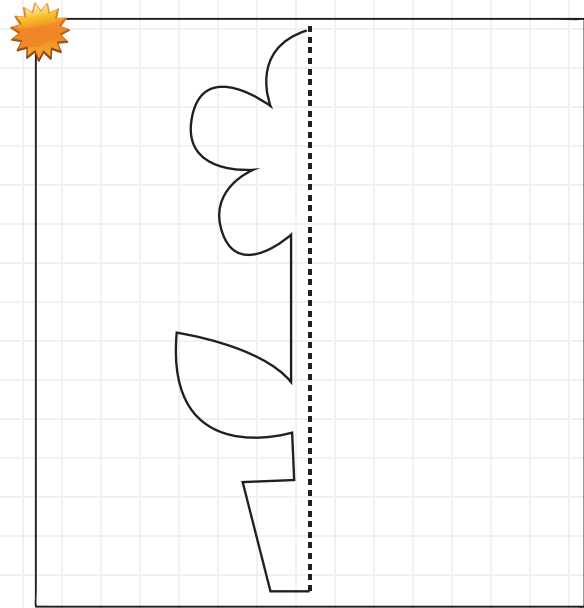
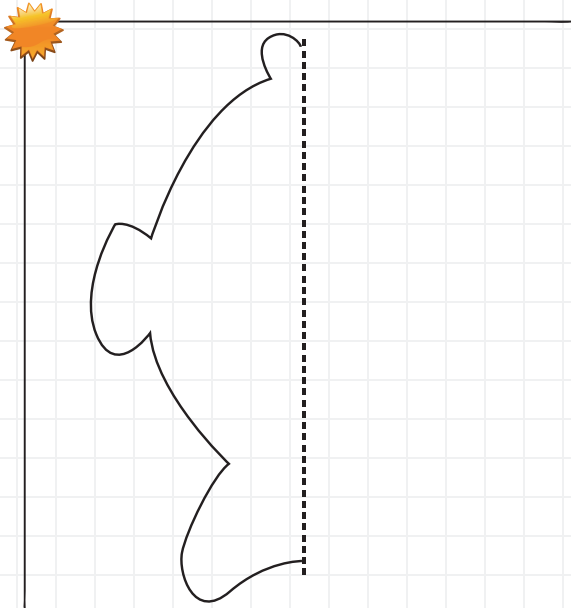
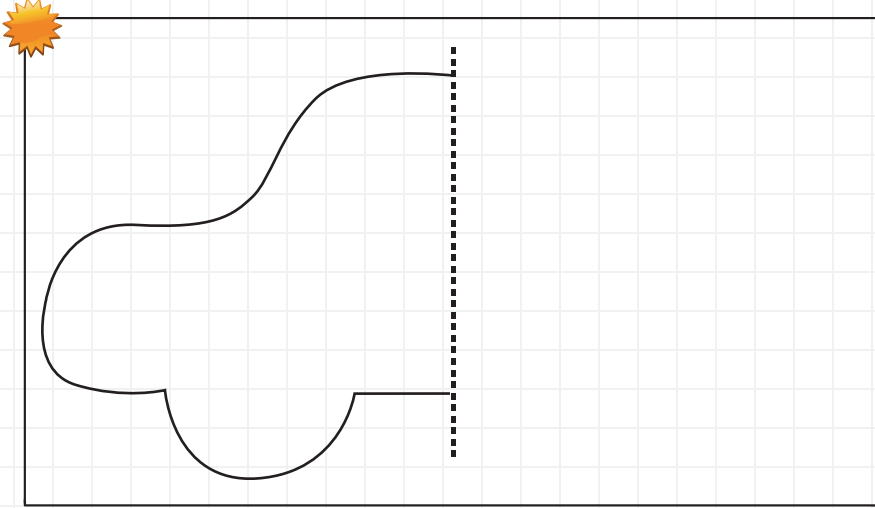
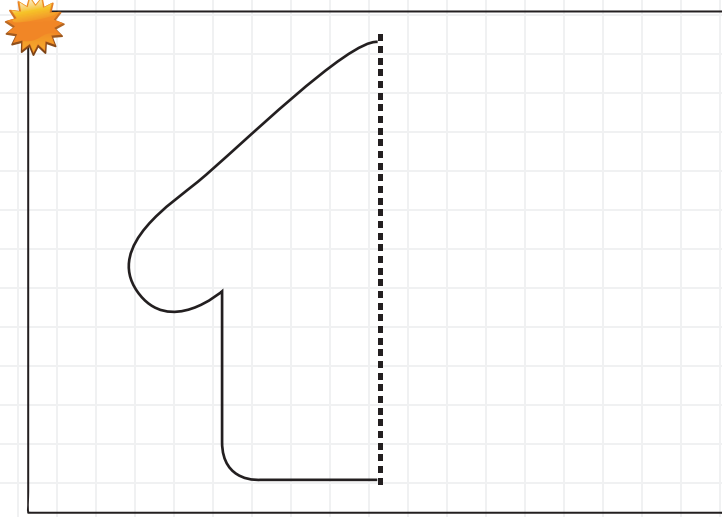
★ Aşağıdaki harflerin simetri doğrularını çiziniz.



MATEMATİK

Simetri

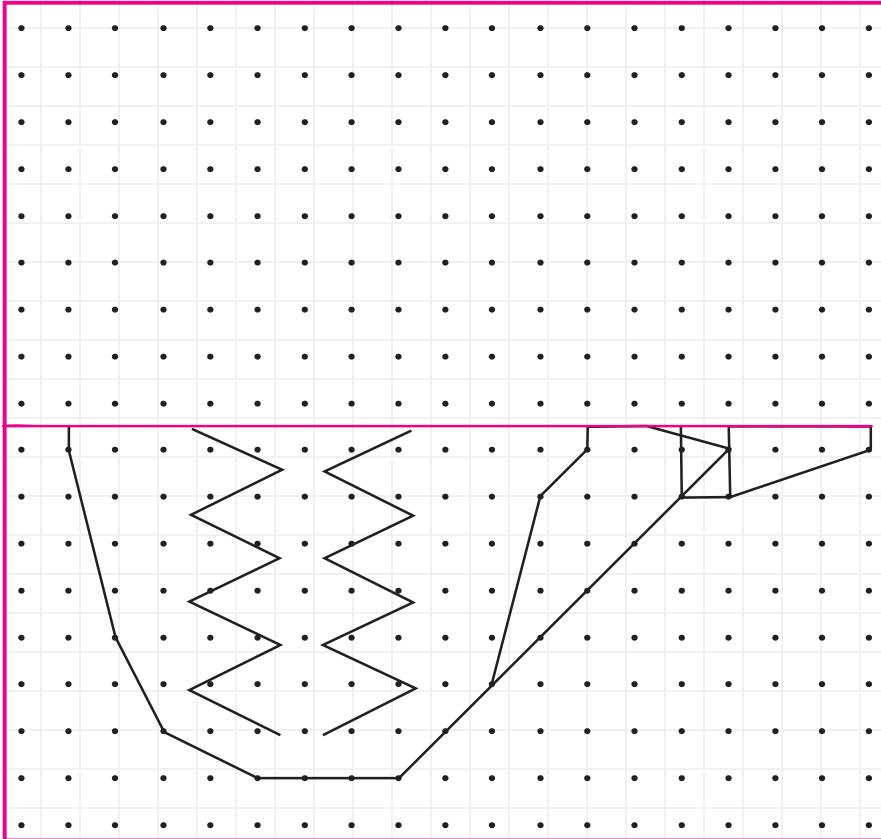
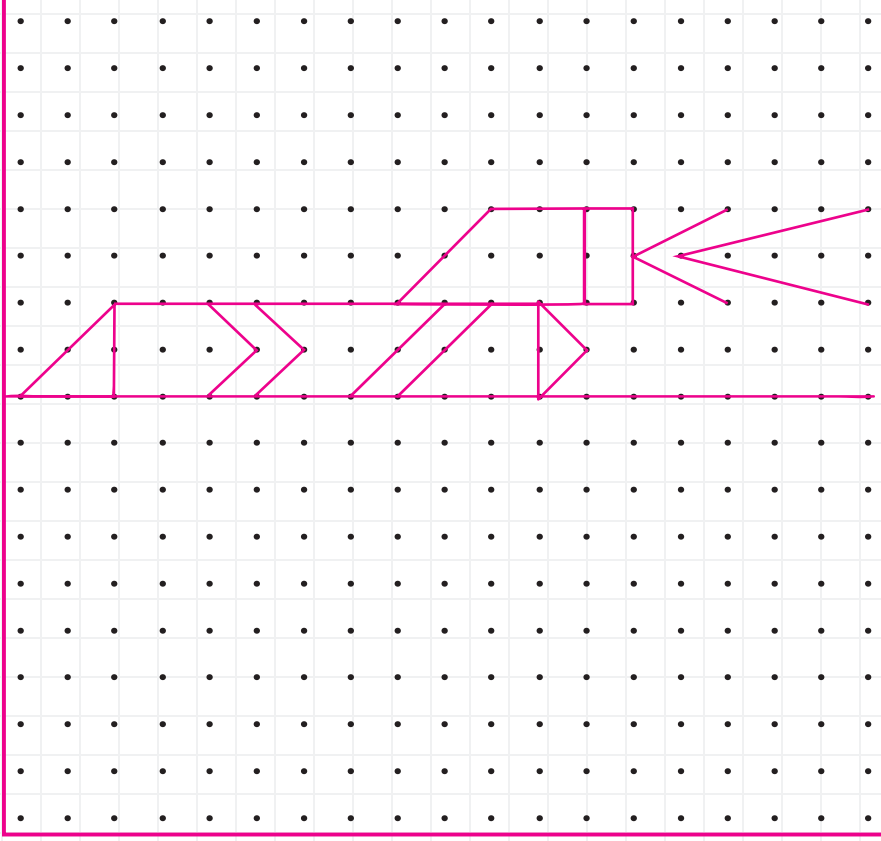
★ Aşağıda şekiller üst üste gelecek şekilde kağıdı simetri doğrusundan katlayınız. Şeklin çevresinden dikkatlice kesiniz ve sonuç: Simetri elde ettiniz.



MATEMATİK

Simetri

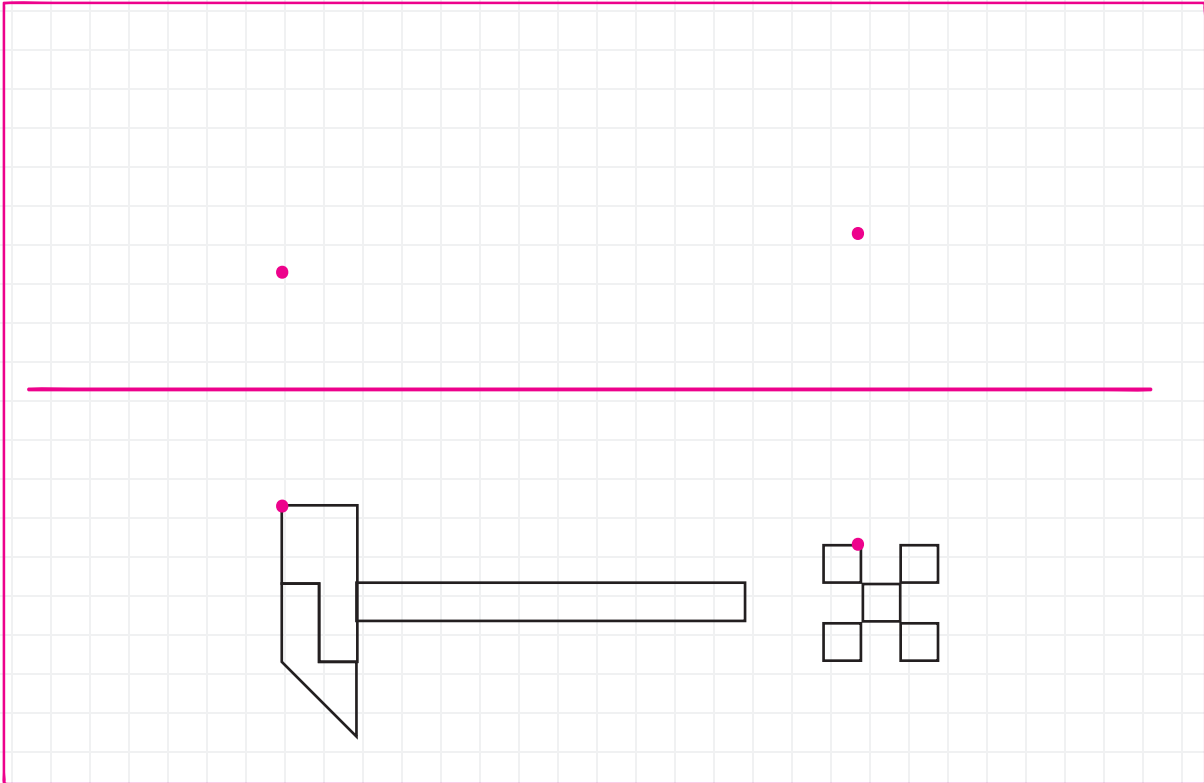
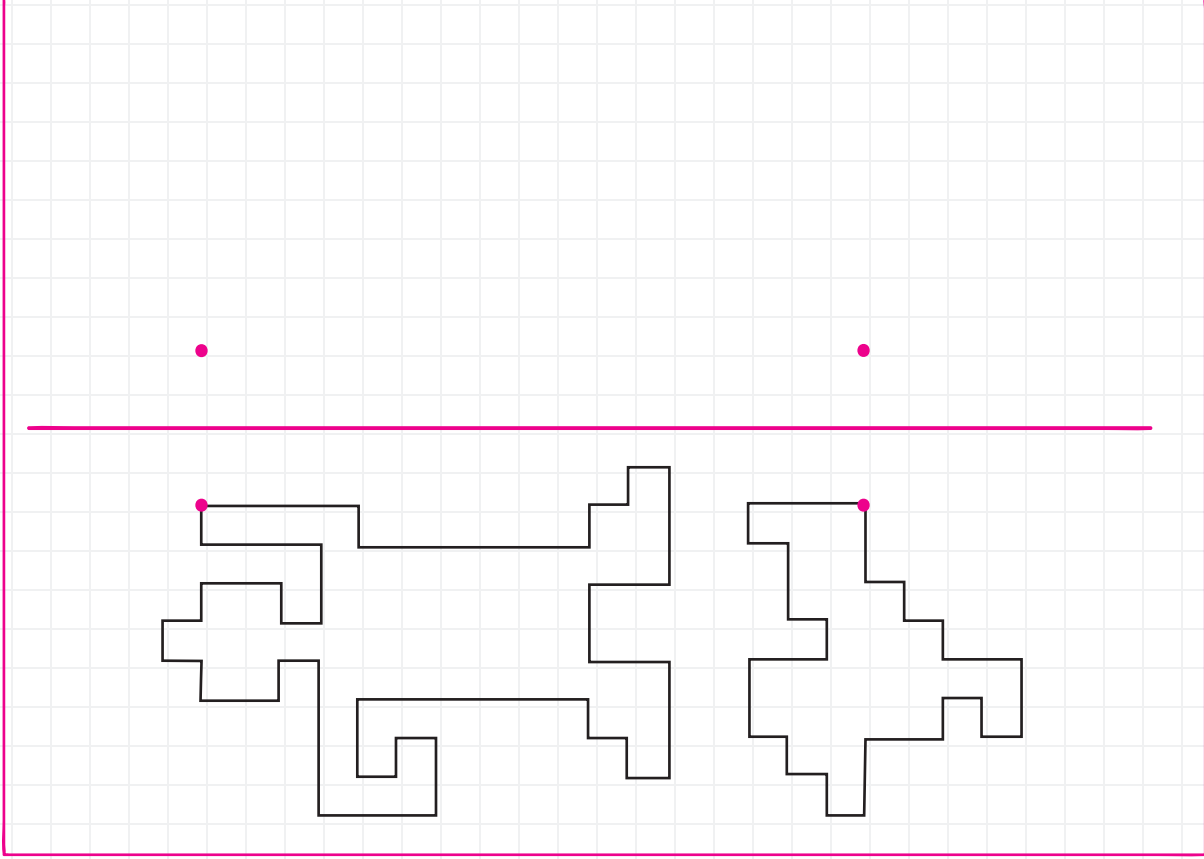
★ Aşağıdaki şekilleri simetri doğrularına göre tamamlayınız. Boyayınız.



MATEMATİK

Simetri

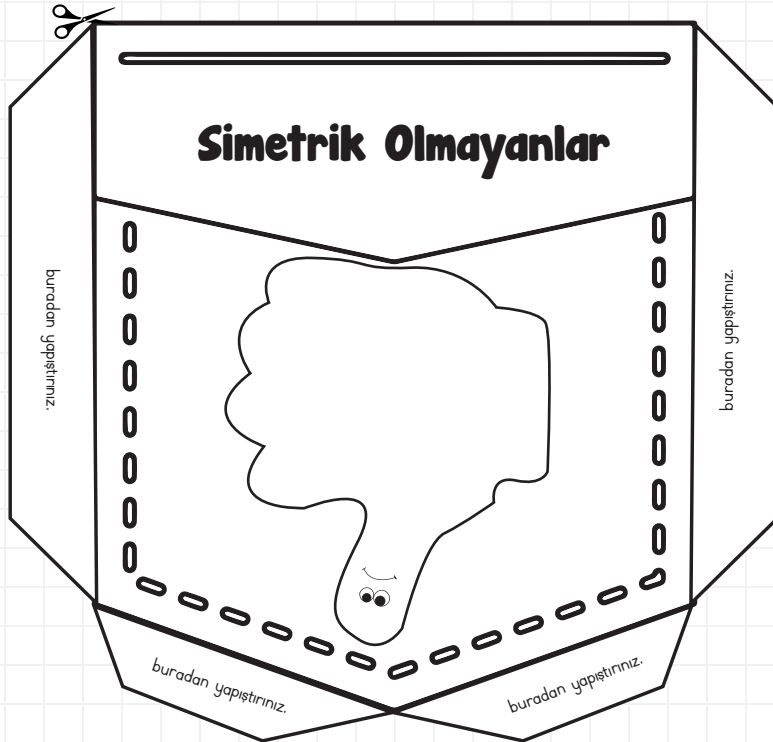

★ Aşağıdaki şekilleri simetri doğrularına göre çiziniz.



MATEMATİK

İnteraktif Defter Çalışması



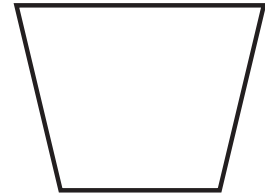

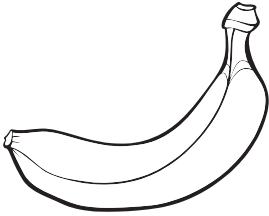






★ Aşağıdaki şekilleri kenarlarından kesiniz. Buradan yapıştırın yazan yerlerden yapıştırıp en üst kısmı pantolon cebi gibi açık olsun. Diğer sayfadaki şekillerin simetri doğrularını çiziniz ve uygun ceplere yerleştiriniz.



MATEMATİK

İnteraktif Defter Çalışması

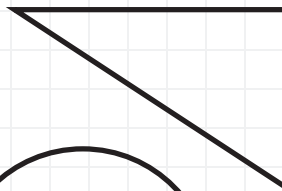
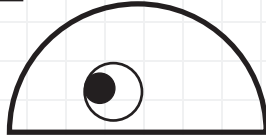
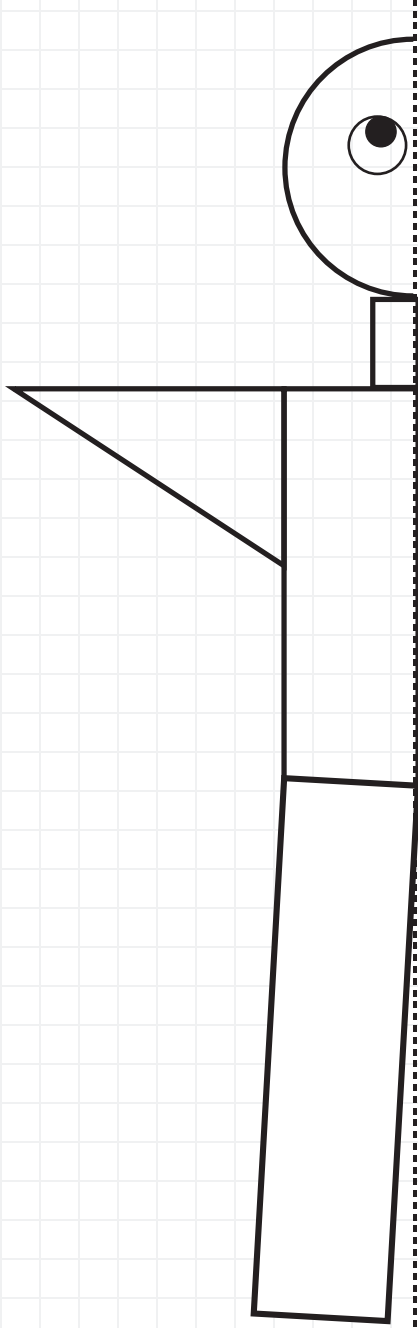
★ Aşağıdaki şekilleri simetri doğrularını çizin. Simetrik olma ve olmama durumuna göre uygun ceplere yerleştiriniz.



MATEMATİK

İnteraktif Defter Çalışması


★ Aşağıdaki şekli, simetri doğrusuna göre alt kısımda bulunan şekilleri kes-yapıştır yöntemiyle tamamlayınız.



MATEMATİK

Simetri

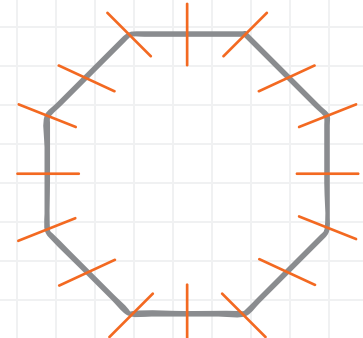
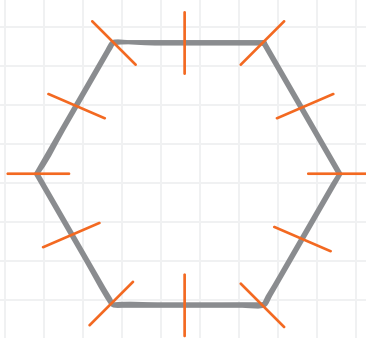
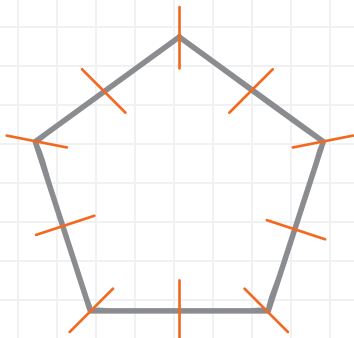
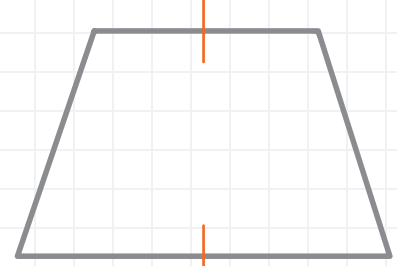
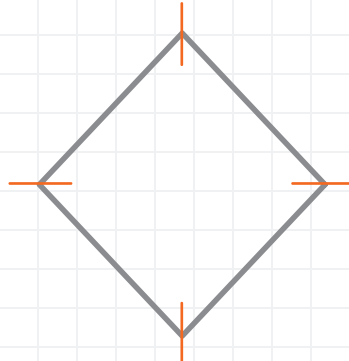
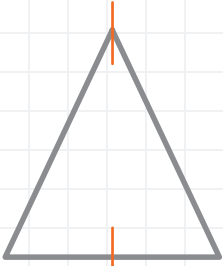
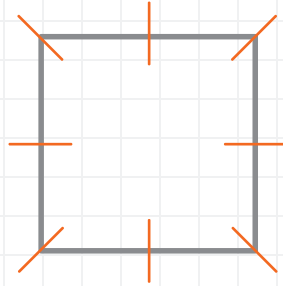
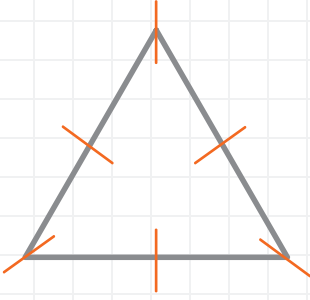
★ Aşağıdaki şekli, simetri doğrularına göre tamamlayıp, boyayınız.



MATEMATİK

Simetri

★ Aşağıdaki şekillerin simetri doğrularını çizip kaç tane simetri doğrusu olduğunu yazınız.



MATEMATİK

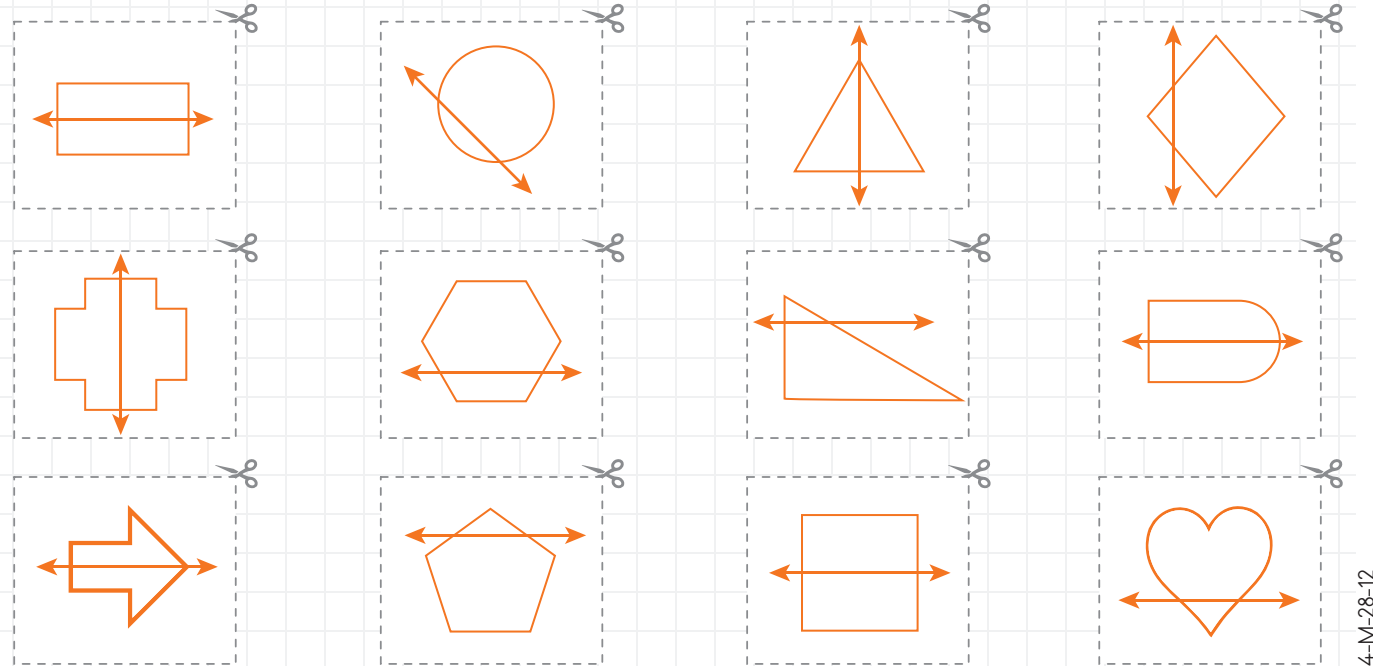
İnteraktif Defter Çalışması

★ Makas işareti olan yerdeki şekilleri kesiniz. Simetri doğrusu olanları ve olmayanları uygun olanlara yapıştırınız.

SİMETRİ

Simetri Doğrusu Olanlar

Simetrik Olmayanlar



FEN BİLİMLERİ

Ses Teknolojileri

★ Aşağıdaki boşlukları uygun kelimelerle tamamlayınız. Bulduğunuz kelimeleri B bölümündeki alana yazınız.

- 1 Ses çıkaran her madde veya cisme adı verilir.
- 2 Kuş sesleri, deredeki suyun sesi, rüzgarın sesi dir.
- 3 Doğal sesleri üreten varlıklara denir.
- 4 Müzik aletlerinden çıkan sesler, araçların çıkardığı sesler dir.
- 5 Yapay sesleri üreten varlıklara denir.
- 6 Titreşen bir nesnenin başlattığı titreşimler dizisine denir.
- 7 Hoşa gitmeyen ve insanlar üzerinde olumsuz etki yapan seslere denir.
- 8 Sesin şiddetine denir.

ses	gürültü	ses kaynağı	yapay ses kaynakları
doğal sesler	yapay sesler	gürlük	doğal ses kaynakları

★

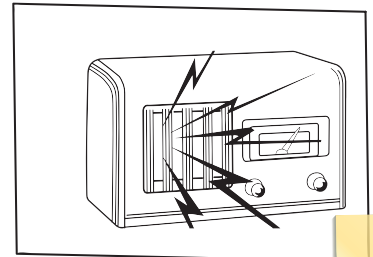


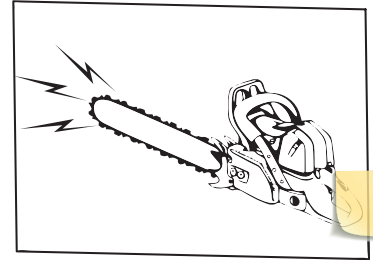




1														
2														
3														
4														
5														
6														
7														
8														



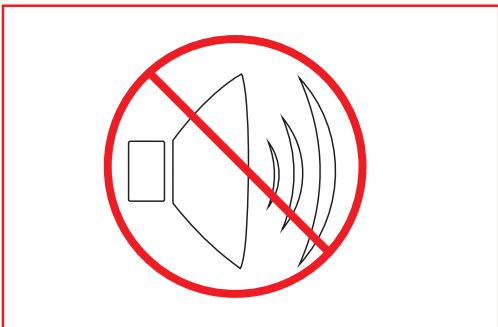
FEN BİLİMLERİ

Ses Kirliliği

★ Alı'nın başını ağrıtan sesler sizce hangileridir? İşaretleyiniz.



★ Yandaki görselin ne anlatmak istediğini yanına yazınız.



.....

.....

.....

.....

.....


FEN BİLİMLERİ

Ses Teknolojisi

★ Aşağıda karışık olarak verilmiş bilgileri kronolojik sıraya göre numaralandırınız.

Fonograf

1877'de T. Edison sesi fonograf ile kaydetmeye başladı.




Manyetik bant ve kaset

1940'lı yıllarda ses kaydı için manyetik şeritler üzerine kayıt yapan araçlar kullanıldı.



Gramafon

1895 yılında geliştirilen gramafonda kayıt için kullanılıyordu.



Kablolu ses kaydedici

Gramamofonlardan sonra kablolar üzerine ses kaydı yapıldı.

MP3' ler

1990'lı yılların sonlarına doğru bilgisayarlarda kullanılıyordu. Günümüzde ise cepte taşınır oldu.



Kompakt Disk

V. Russel tarafından Keşfedilen CD, 1980'li yıllarında kullanılmaya başlandı.



Video Kamera

Görüntü ve sesi video bantlara kaydeden video keşfedildi.



★ Aşağıdaki boşlukları doldurunuz.

- İlan yapmak ve açık alanda konuşma yapmak için kullanılır.
- gibi şiddetli ses üreten araçlarımız olmadıkça kullanılmamalıdır.
- şiddetli ses üreten bir araçtır, uyarı amacıyla kullanılır.
- arabada, evde, iş yerinde kullanılan bir önlemdir.
- Okulda teneffüsü sayesinde anlarız.

alarm

hoparlör

güvenlik

megafon

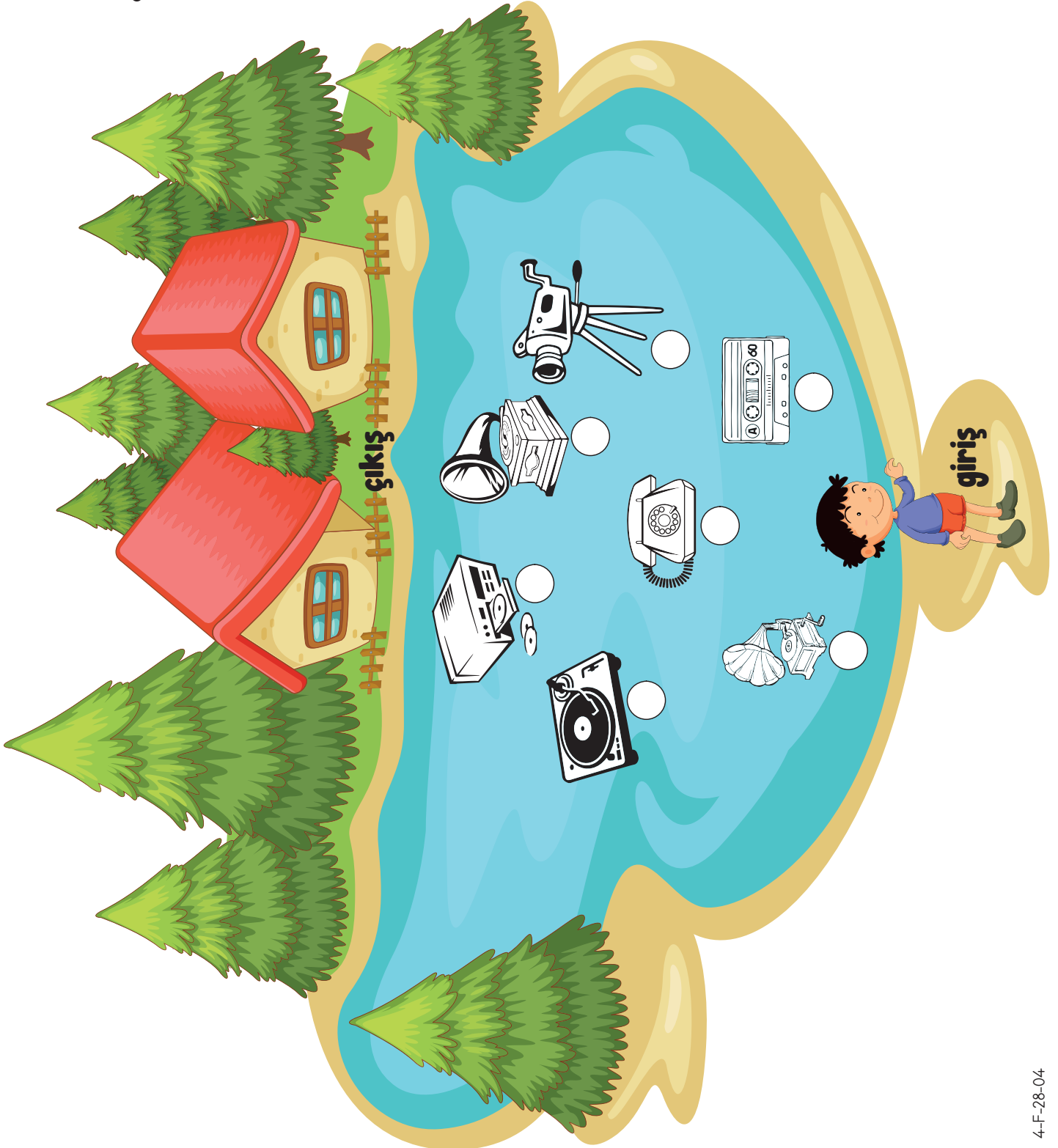
zil

siren

FEN BİLİMLERİ

Ses Teknolojisi

- ★ Göl kenarında duran Mert, karşıya evine geçebilmek için taşlara atlaması gerekir; ama ses teknolojik araçlarının kronolojik sırasını takip etmek zorunda. Ona yardım eder misiniz?



FEN BİLİMLERİ

Ölçme Değerlendirme

1. Ses kirliliği ne demektir? Ses kirliliğine örnekler veriniz.

2x10=20 Puan

.....
.....

2. Ses kirliliğinin insanlar üzerinde etkisi olmayan cümlenin kutucuğuna "X" işareti koyunuz.

10 Puan

Gerginlik yaratır.

Dikkat dağınıklığı yapar.

İş kalitesi düşer.

Hafıza kaybına sebep olur.

3. Ses kirliliğinin sebeplerini yazınız.

10 Puan

.....
.....

4.

Yapay Ses Kaynakları

.....
.....
.....
.....

Doğal Ses Kaynakları

.....
.....
.....
.....

Yukarıdaki boşlukları doldurunuz.

2x10=20 Puan

5. Ses teknoloji ürünlerini kronolojik sıraya göre yazınız.

20 Puan

.....

.....

.....

.....

6. Aşağıdaki cümleleri okuyunuz. Doğru olanlara "D", yanlış olanlara "Y" yazınız.

10 Puan

En büyük doğal ışık kaynağı güneştir.

Mikrofon sesin şiddetini arttıran bir cihazdır.

Teleskopun ses kaydetme özelliği vardır.

Ses teknolojilerinin en çok zarar verdiği organ gözdür.

Gürültülü ortamlarda bulunmak kalıcı veya geçici işitme kaybına neden olabilir.

7. Ses kirliliğini önlemek için neler yapabiliriz?

10 Puan

.....
.....




SOSYAL BİLGİLER

Çocuk Hakları

★ Aşağıda çocuk hakları ile ilgili ifadeleri okuyup doğru olanlara "D", yanlış olanlara "Y" yazınız.

- Çocuğun en temel hakkı yaşama hakkıdır.
- Her insan on sekiz yaşına kadar çocuk sayılır.
- Çocuklar, büyüklerin her istediğini yapmak zorundadır.
- Çocukların sağlıklı gelişebilmesi için tüm kurumların sorumluluğu vardır.
- Çocuklar istedikleri ülke vatandaşı olabilirler.

★ Aşağıdaki boşluklara haklarınızı ve bu hakların size sağladığı faydaları yazınız.



★ Aşağıdaki görselleri inceleyiniz. Çocukların kullandıkları hakları boşluklara yazınız.




.....



.....



.....



.....




.....



.....

SOSYAL BİLGİLER

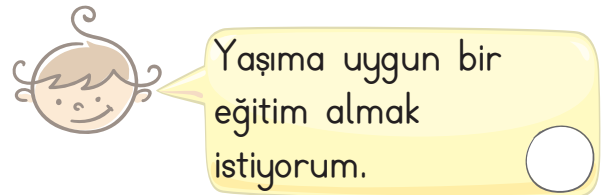
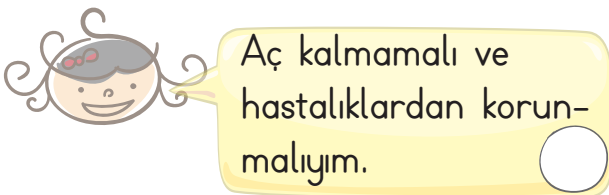
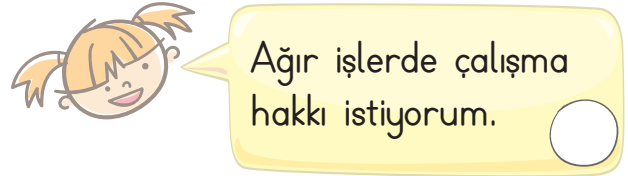
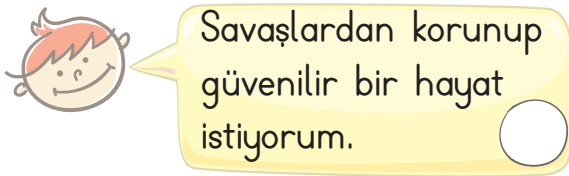
Çocuk Hakları



★ Yukarıdaki görseldeki cümlelerde yer alan boşlukları uygun kelimelerle tamamlayınız.

bakılma çocuk yaşama öğrenme özgürce korunma



★ Aşağıdaki çocuklardan hangileri çocuk haklarına uygun sözler söylemiştir. Uygun olanlara gülen yüz, olamayana üzgün yüz yapınız.




SOSYAL BİLGİLER

Çocuk Hakları

★ Aşağıdakilerden hangisi çocukların görev ve sorumluluklarından değildir? İşaretleyiniz.



★ Çocuk hakları ile ilgili afiş hazırlayınız.



★ Size verilen hakların dışında başka ne tür haklarınız olmasını isterdiniz?

1.
2.
3.
4.
5.

SOSYAL BİLGİLER

Çocuk Hakları

★ Aşağıda çocuklara verilen bazı haklar yazılmıştır. Uygun kelimelerle tamamlayarak bulmacaya yazınız.

1. Ben bir çocuğum. 18 yaşına gelene kadar bir çocuk olarak haklara sahibim.
2. Haklarımın uygulanması için her türlü gösterilir.
3. Çocukların yaşamını korumak herkesin ilk görevidir. her çocuğun en temel hakkıdır.
4. Konan ismim, kazandığım vatandaşlık hakkım ve aile bağlarım korunur. Bunları için baskı uygulanmaz.
5. Çocuğu ailesinden koparıp alamaz.
6. Aynı ülkelerde yaşayan anne, baba ve çocukların birlikte yaşamaları için her türlü , gösterilir.
7. Çocuklar anne ve babalarının birlikte izni ve haberi olmadan başka ülkelere , orada bırakılamazlar.
8. Biz çocukların düşüncelerini geliştirmeleri ve istedikleri dini seçmeleri hakkına gösterilir.
9. Arkadaşlarımla içinde oynayabilirim.
10. Çocuklar onurlu ve biri insanlardır.

saygı

vazgeçilmez

çaba

saygın

götürülemezler

yaşamak

değiştirmek

barış

kimse

kolaylık

1. □ □ □ □ □ □ □ □ □ □

2. □ □ □ □ □ □ □ □

3. □ □ □ □ □ □ □ □ □ □

4. □ □ □ □ □ □ □ □ □ □ □ □ □ □ □ □

5. □ □ □ □ □ □ □ □ □ □

6. □ □ □ □ □ □ □ □ □ □ □ □ □ □ □ □

7. □

8. □


9. □

10. □

SOSYAL BİLGİLER

Çocuk Hakları


★ Aşağıdaki çocukların yüz ifadelerine bakarak hangi çocuk haklarıyla ilgili bu duyguları hissetmiş olabileceğini açıklayınız.



.....
.....
.....
.....
.....
.....
.....



.....
.....
.....
.....
.....
.....
.....




.....
.....
.....
.....
.....
.....
.....



.....
.....
.....
.....
.....
.....
.....



.....
.....
.....
.....
.....
.....
.....




.....
.....
.....
.....
.....
.....
.....

SOSYAL BİLGİLER

Çocuk Hakları

1. Aşağıdaki cümlelerden doğru olanlara "D", yanlış olanlara "Y" yazınız. **3x5=15 Puan**
- Kızların eğitimi önemli değildir.
Çocuk, yeterli beslenme ve barınma hakkına sahiptir.
On sekiz yaşından küçük olan kişiler çocuk olarak tanımlanır.
Çocuk haklarına göre çocuklar asker olabilir.
Çocuk hakları yetişkinlerden farklı olabilir.
2. Çocuk haklarına dair sözleşme hangi tarihte kabul edilmiştir? **10 Puan**
-
3. Çocuk haklarından dört tanesini yazınız. **20 Puan**
1. 2.
3. 4.
4. "Çocuk hakları sözleşmesi"ne göre çocuk ne zamana ilersinden alınır? **10 Puan**
-
5. Yaşama hakkımız ne zamandan itibaren başlar? **10 Puan**
-
6. Aşağıdaki hangisi çocuk haklarına aykırıdır "✓" ile gösteriniz. **10 Puan**
- İlköğretimin tüm çocuklar için zorunlu olması. Çocukların aile bütçesi için çalıştırılması.
Kimsesiz çocukların devlet korunmasına alınması. Çocukların sağlıkları için aşılması.
7. Sınıf başkanını seçerken hangi yolu kullanırsak demokratik bir sınıf oluruz? **10 Puan**
-
8. Çocuk haklarının korunması ile ilgili çalışmalar yapan kurumlar nelerdir? **15 Puan**
-



1.  "Sevgili günlük,
Bugün Ankara'dan döndük.
Harika vakit geçirdik."

diye başlayan metin türü aşağıdakilerden hangisidir?

- A) Günlük
- B) Şiir
- C) Bilgilendirici metin
- D) Masal

2. Aşağıdaki cümlelerin hangisinin sonuna (?) getirilmemelidir?

- A) Ne zaman gelecek
- B) Neden susuyorsun
- C) Sorulara cevap vermedin
- D) Gider misin

3. Aşağıdaki eylemlerden hangisinde "Kim?" sorusunun cevabı yoktur?

- A) Yazdım
- B) Gittik
- C) Okuttu
- D) Yerleştirildi

4. Aşağıdaki cümlelerin hangisinde (:) doğru kullanılmıştır?

- A) Saat tam 19:30'da gel.
- B) TBMM; 23 Nisan 1920'de açıldı.
- C) Size elma; armut; muz aldık.
- D) Günlerdir uyuyor; ne acıktım dedi ne de susadım.

5. "Göze girmek" deyiminin açıklaması aşağıdakilerden hangisidir?

- A) Davranışlarıyla önem kazanmak
- B) Telaşlanmak
- C) Dert anlatmak
- D) Kendini zor duruma sokmak.

6. Aşağıdaki cümlelerin hangisinde "de" yanlış yazılmıştır?

- A) Yol da kaldık.
- B) Yemekte her şey vardı.
- C) Gel de gidelim.
- D) Perdede leke var.

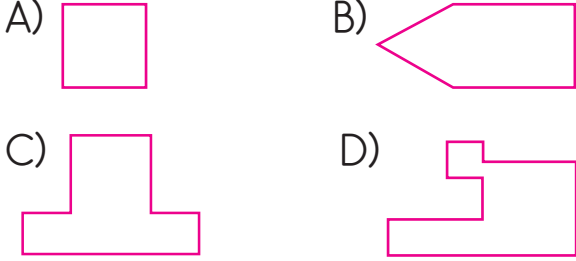
7. Aşağıdaki cümlelerin hangisinde "ki" yanlış yazılmıştır?

- A) İstemiyor ki öğretiyim.
- B) Çalıştı ki başardı.
- C) Akşamki maç çok heyecanlıydı.
- D) Sende ki kitapları alabilir miyim?

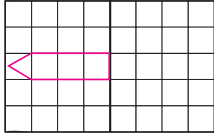
8. Aşağıdaki harflerden hangisine birden fazla simetri doğrusu çizilebilir?

- A) K
- B) C
- C) D
- D) H

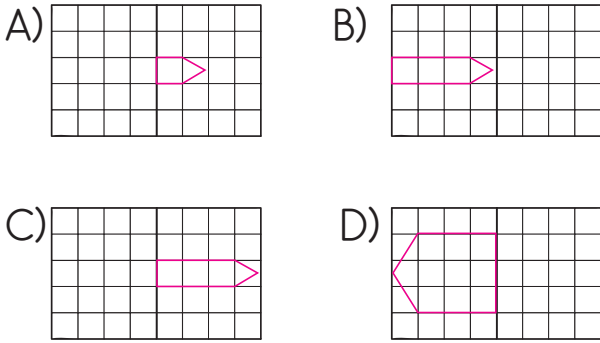
9. Aşağıdakilerden hangisine simetri doğrusu çizilemez?



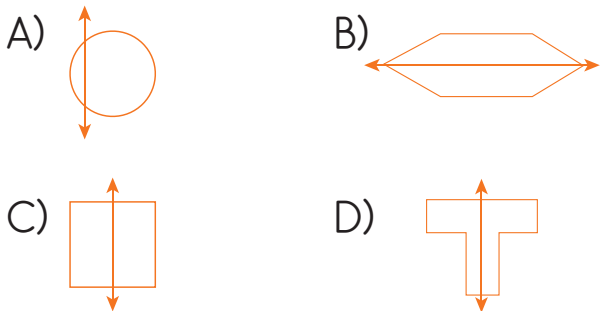
10.



Yukarıdaki şeklin simetri doğrusuna göre simetriği hangisidir?



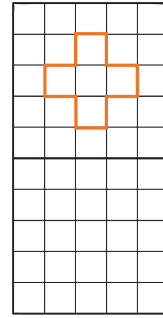
11. Aşağıdaki şekillerden hangisinde simetri doğrusu yanlış çizilmiştir?



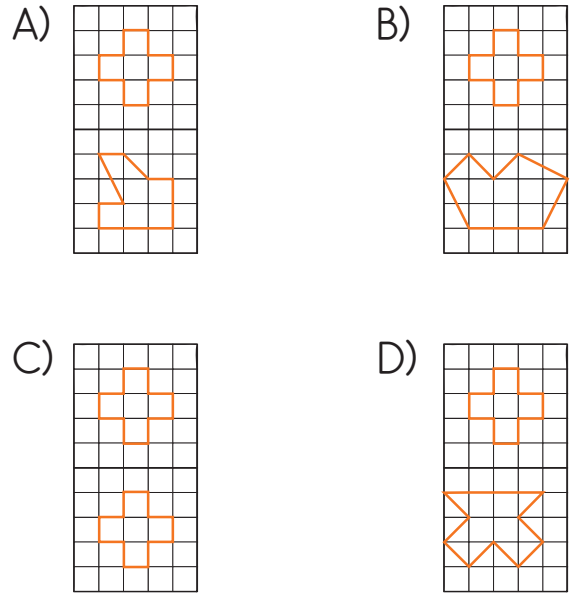
12. Aşağıdaki rakamlardan hangisinin simetri doğrusu vardır?

- A) 7 B) 0 C) 9 D) 1

13.



Yukardaki şeklin simetri doğrusuna göre simetrisi hangisidir?



14. İnsanları rahatsız eden şiddetli seslere ne denir?

- A) Fırtına B) Gürültü
C) Müzik D) Gök gürültüsü

15. Yüksek ses olarak açıklanan gürültü sonucu hangisi oluşur?

- A) Su kirliliği
- B) Ses kirliliği
- C) Çevre kirliliği
- D) Hava kirliliği

16. Aşağıdakilerden hangisi doğal ses kaynağıdır?

- A) Radyo
- B) Rüzgar
- C) Televizyon
- D) Gitar

17. Aşağıdakilerden hangisi ses kirliliğinin asıl sebebidir?

- A) Müzik
- B) Hayvan sesleri
- C) Doğal sesler
- D) Teknoloji

18. Uzun süre gürültüye maruz kalan bir insanda hangisi görülür?

- A) İşitme kaybı
- B) Görme kaybı
- C) Bilinç kaybı
- D) Dokunma kaybı

19. Aşağıdakilerden hangisi ses kirliliğine sebep olmaz?

- A) Araba sesi
- B) Kuş sesi
- C) İş makinesi
- D) Müzik sesi

20. Ses için hangisi söylenemez?

- A) Her sesin bir kaynağı vardır.
- B) Her yöne yayılır.
- C) Titreşimle oluşur.
- D) Kaynaktan uzaklaştıkça şiddet artar.

21. Hangisi ses yalıtımında kullanılmaz?

- A) Demir
- B) Bakır
- C) Yün
- D) Strafor

22. On sekiz yaşından küçük olan kişiler ne olarak adlandırılır?

- A) Bebek
- B) Çocuk
- C) Ergen
- D) Genç

23. Aşağıdakilerden hangisi çocuk hakları sözleşmesine yön veren temel değerlerden değildir?

- A) Çocukları büyüklerden uzaklaştırmak.
- B) Çocuğun yararını gözetmek.
- C) Çocuklar arasında ayırım gözetmemek.
- D) Çocuğu yaşama, gelişme ile katılımı sağlama.

24. Aşağıdakilerden hangisi çocuk haklarından birisi değildir?

- A) Sağlık hizmetlerinden faydalanma hakkı.
- B) Eğitim hakkı.
- C) Yaşama hakkı.
- D) Seçme ve seçilme hakkı.

25. Aşağıdakilerden hangisi insanın duygusal yönünü belirtir?

- A) Gülmesi
- B) Konuşması
- C) Spor yapması
- D) Beslenmesi

26. Aşağıdakilerden hangisi çocuk haklarından değildir?

- A) Eğitim görmek.
- B) Askerlik yapmak.
- C) Sağlık hakkı.
- D) Barınma hakkı.

27. İnsanların sahip olduğu tüm haklarını kullanmasını sağlayan en temel hakkı aşağıdakilerden hangisidir?

- A) Eğitim hakkı
- B) Dilekçe hakkı
- C) Yaşama hakkı.
- D) Seyahat hakkı.

28. Aşağıdaki ifadelerin hangisi doğrudur?

- A) Kişi her istediğini yapabilir.
- B) Çocuklarda asker olabilir.
- C) Temel haklarımız anayasa tarafından güvence altına alınmıştır.
- D) Temel haklar başkasına devredilebilir.