

Alp'in evi okula çok yakındı. Okula yürüyerek gidip geliyordu. Evden çıktığında büyük bir caddeden karşıdan karşıya geçiyordu. Karşıya geçerken yaya geçidini kullanıyor, trafik ışıklarına göre hareket ediyordu. Yayalar için yeşil yandığında o da güvenle karşıya ulaşıyordu.

1. ve 2. soruları metne göre cevaplayalım.

1. Metnin konusu nedir?
A) Alp'in okul yolundaki davranışları.
B) Alp'in yemek yerken uyduğu kurallar.
C) Alp ve arkadaşları arasındaki yardımlaşma.
2. Hangisi bu metinden çıkarılabilecek bir sonuç **değildir**?
A) Alp, trafik kurallarına uyan bir çocuktur.
B) Alp'in evi okula çok yakındır.
C) Alp'in evi okula çok uzaktır.

3. Hangi meyvenin adı hecelerine **yanlış** ayrılmıştır?

A) por - ta - kal



B) şef - ta - li



C) kay - ı - sı



4.



Yukarıdaki görsele uygun bilmece hangisidir?

- A) Sıra sıra odalar, birbirini kovalar.
- B) Yeşil mantolu, kırmızı entarili, siyah düğmeli.
- C) Çarşıdan aldım bir tane, eve geldim bin tane.

5.

Defne	yaptı	resim.
1	2	3

Yukarıdaki cümlede hangi kelimeler yer değiştirirse cümle anlamlı ve kurallı olur?

A) 1 - 2

B) 2 - 3

C) 1 - 3

TÜRKÇE

Genel Değerlendirme

6. - Üç harften oluşur.
- Islak kelimesinin eş anlamlısıdır.
- Kuru kelimesinin zıt anlamlısıdır.

Yukarıda özellikleri verilen kelime aşağıdakilerden hangisidir?

- A) yaş B) çay C) taş

7. Ahmet Ali Hasan ve Tuna futbol oynuyor.

Yukarıdaki cümlede kaç tane virgül (,) kullanılmalıdır?

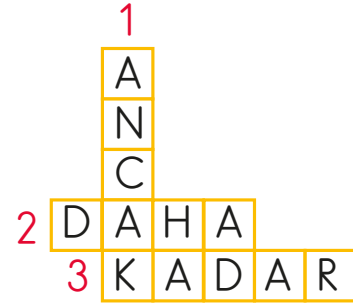
- A) 1 B) 2 C) 3

8. Hangi cümlenin sonuna ünlem işareti (!) koyulmalıdır?

- A) Kapıyı kim çaldı
B) Kapının kolu kırıldı
C) Ah, elimi kapıya çarptım

9. Yaparım sen de yaparsan.

Cümledeki boşluğu doğru tamamlayan kelime bulmacada kaç numaralı bölüme yazılmıştır?



- A) 1 B) 2 C) 3

10. Konuşma kuralları ile ilgili hangi öğrencinin verdiği bilgi yanlıştır?



Başkalarına söz hakkı tanımam.



İşitilebilir bir ses tonuyla konuşurum.



Konuşurken göz teması kurarım.

TÜRKÇE

Genel Değerlendirme

11.

Ağacın
dalına kuş
kondu.

Yıldızlar
gökyüzünde
dans etti.

Deniz yıldızı
bana
gü-lümsedi.

1 Gerçek

2 Hayal

Yukarıdaki eşleşme yapıldığında
hangisi doğru olur?

- A) 1 1 2
1 2 2
2 2 1

12. Aşağıdaki olaylardan hangisi
diğerlerinden daha sonra
olmuştur?

- A) İki yaşında konuşmaya
başlamışım.
B) Sekiz aylıken emeklemeye
başlamışım.
C) Beş yaşında ana sınıfına
başladım.

13.

yarışmada Ömer 1 oldu

Yukarıdaki cümleyi hangi
öğrenci doğru yazmıştır?

- A) Yarışmada
Ömer 1 oldu?
- B) Yarışmada
Ömer 1. oldu.
- C) yarışmada
Ömer 1. oldu.

14. Hangi cümlede "Nerede?"
sorusunun cevabı yoktur?

- A) Bu yaz tatil yapamadık.
B) Bahçede top oynadık.
C) Kitabımı okulda unuttum.


15. Bir hikâyede, olayın yaşandığı
zamanı bulmak için, hangi
soruya cevap ararız?

- A) Kim? B) Nerede?
C) Ne zaman?

MATEMATİK

Genel Değerlendirme

1.



Betül, saat yönünde yarım dönüş yaptığında hangi sembolü görür?

- A) B) C)

2.

$$\begin{array}{r} 54 \\ - 29 \\ \hline \end{array}$$

Tahtadaki çıkarma işleminde gerçek sonuç ile tahmini sonuç arasındaki fark kaçtır?

- A) 3 B) 4 C) 5

3.



Babam bana her hafta harçlık olarak 10 lira veriyor.

Sinan 2 haftada kaç lira harçlık alır?


- A) 12 B) 16 C) 20

4.


Baskül	Takvim	Terazi
Saat	Kantar	Metre

Tartı araçlarının yazılı olduğu kutular boyandığında, tablonun görüntüsü nasıl olur?


A)



B)



C)



5.



Yukarıdaki keklerin sayısını bulmak için hangi işlem yapılmalıdır?

- A) $4 \times 3 = 12$ kek
B) $3 \times 5 = 15$ kek
C) $4 \times 4 = 16$ kek

MATEMATİK

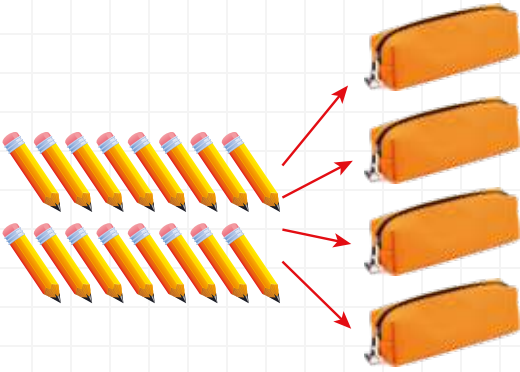
Genel Değerlendirme

6. Her birinde 7 tane gül bulunan 5 vazodaki güllerden 12 tanesi soldu.

Geriye kaç tane gül kalmıştır?

- A) 35 B) 23 C) 12

7.



16 kalemi kutularına eşit olarak paylaştığımızda bir kalem kutusunda kaç kalem olur?

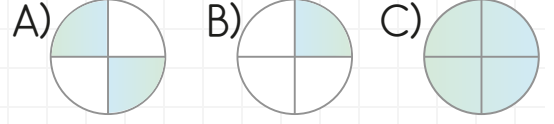
- A) 5 B) 4 C) 3

8. Yandaki bölme işlemine göre bölüm kaçtır?

$$\begin{array}{r} 15 \quad | \quad 5 \\ \hline \end{array}$$

- A) 3 B) 5 C) 15

9. Çeyreği ifade eden şekil aşağıdakilerden hangisidir?



10.

Geometrik şekil	Kenar sayısı	Köşe sayısı

Tabloyu doldurduğumuzda renkli alanın görünümü nasıl olur?

- A)

3	3
4	4

 B)

4	4
3	3
- C)

3	4
4	3

11. Derya her hafta kumbarasına 4 lira koyarak 8 hafta boyunca para biriktiriyor.

Derya'nın başlangıçta kumbarasında 35 lirası olduğuna göre; 8 haftanın sonunda toplam kaç lirası olur?

- A) 32 lira B) 56 lira
C) 67 lira

MATEMATİK

Genel Değerlendirme

12. 22 - 25 - 28 - 31 - ☆ - ▲

Yukarıdaki sayı örüntüsünü iki adım daha ilerlettiğimizde, sembollerle gösterilen yerlere sırasıyla hangi sayılar yazılır?

- A) 34 - 37 B) 34 - 36
C) 33 - 37

13. Elif, tabaktaki 20 cevizin 13 tanesini yedi. Geriye kaç tane ceviz kaldı?

Problemdeki çokluklar arasındaki ilişkiye göre;

Toplam ceviz sayısı

Yenilen ceviz sayısı

Kalan ceviz sayısı

Kutulara sırasıyla hangi sayılar yazılmalıdır?

- A) 13 B) 33 C) 20
20 20 13
7 13 7

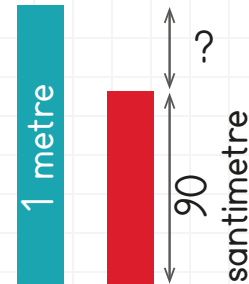
14. Karış, parmak, ayak, adım ve kulaç standart olmayan uzunluk ölçü birimleridir.

- Sıranın uzunluğunu¹ ile ölçebiliriz.
- Sınıfın uzunluğunu² ile ölçebiliriz.
- Silginin uzunluğunu³ ile ölçebiliriz.

Yukarıdaki boşluklara sırasıyla hangileri yazılabilir?

- | | | | |
|----|----------|----------|----------|
| | <u>1</u> | <u>2</u> | <u>3</u> |
| A) | karış | adım | parmak |
| B) | parmak | ayak | adım |
| C) | adım | parmak | kulaç |

- 15.



Kırmızı çubuğu 1 metreye tamamlamak için kaç santimetre daha ilave etmek gerekir?

- A) 20 B) 15 C) 10

HAYAT BİLGİSİ

Genel Değerlendirme

1.

- Dürüstlük
- Yalancılık
- Hoşgörü

Arkadaşlarımızda olmasını istediğimiz davranışları işaretlediğimizde toplar nasıl görünür?

- A)
- B)
- C)

2.

Faturalarımızın daha az gelmesi için neler yapabiliriz?

Hangi seçenekte sorunun doğru cevabı **yoktur**?

- A) Gereksiz yanan ışıkları söndürmeliyiz.
- B) Kaynakları bilinçli kullanmalıyız.
- C) Musluklardan bol bol su akıtmalıyız.

3.

Sağlıklı yaşamak için

Yukarıdaki boşluğa hangisini yazarsak ifadeyi doğru tamamlamış oluruz?

- A) spor yapmalıyız
- B) geç yatmalıyız
- C) abur cubur yemeliyiz

4. Hangi çocuk için temiz ve düzenlidir **diyemeyiz**?

A)



B)



C)



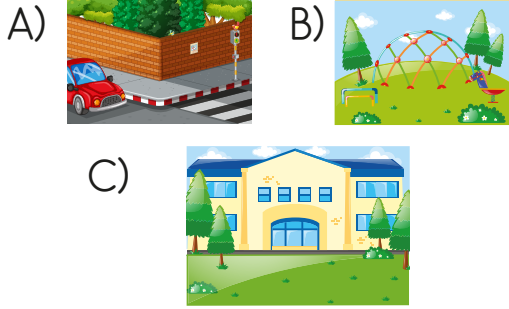
5. Yolculuk sırasında hangisini yapmak tehlikelidir?

- A) Emniyet kemerini bağlamak.
- B) Ellerimizi camdan dışarı çıkarmak.
- C) Özel araçlarda arka koltuğa oturmak.

HAYAT BİLGİSİ

Genel Değerlendirme

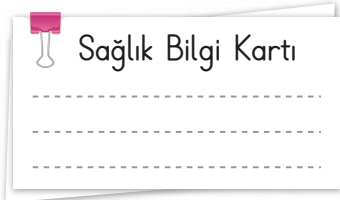
6. Hangisi çocukların oynayabileceği güvenli yerlerden biri değildir?



8. Hangi görseldeki oyunun adı doğru yazılmıştır?



7.



Aşağıdaki bilgilerden hangisinin "Sağlık Bilgi Kartı"nda olmasına gerek yoktur?

- A) Kullandığı ilaçlar
B) Geçirdiği ameliyatlar
C) Kardeş sayısı

9.



O gün, Cumhuriyet Bayramını kutladık.

Ekin'in bahsettiği gün aşağıdaki takvim yapraklarının hangisinde yazılıdır?



HAYAT BİLGİSİ

Genel Değerlendirme

10.



Görselde verilen kişi hangi işi yapıyor?

- A) balıkçılık B) arıcılık
C) halıcılık

11. Hangi seçenekteki olay diğerlerinden daha sonra gerçekleşmiştir?

- A) Bandırma Vapuru ile Samsun'a gitti.
B) Cumhuriyet'i ilan etti.
C) Ankara'da TBMM'ni açtı.

12. • Yeni ve temiz elbiseler giyilir.

- Tanıdıklar ziyaret edilir.
- Büyüklerin elleri öpülür.

Yukarıda verilenlerden kaç tanesi dini bayramların özelliğidir?

- A) 1 B) 2 C) 3

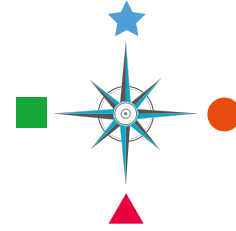
13.



Bir çiçeğin büyümesi için aşağıdakilerden hangisi kesinlikle gerekli değildir?

- A) Ateş B) Su
C) Toprak

14.



Yön şeması ile ilgili hangi bilgi doğrudur?

- A) ★ kuzey, ● güneydir.
B) ■ batı, ● doğudur.
C) ▲ kuzey, ■ batıdır.

15.

Güneşli günler bitti.
Leylekler göçtü gitti.
Yapraklar sarı sarı
Örtüyor toprakları.

Yukarıda bahsedilen mevsim hangisidir?

- A) ilkbahar B) yaz
C) sonbahar