



TÜRKÇE

4. Sınıf
“SEVİYE TESPİT SINAVI”

Tarih:
Adım:
Soyadım:

Öğrendiklerimizi Tekrar Edelim

👉 Metni okuyalım. Soruları cevaplayalım.



YAVRU FİL VE BİLGE BAYKUŞ

Yavru filin, ormanın bir köşesine çekilmiş, içli içli ağladığını gören baykuş, ağır adımlarla filin yanına yaklaşmış. Bilge Baykuş

sormuş:

- Böyle gözden uzak köşelere çekilmiş neden ağlıyorsun?
 - Hep düşüncesizliklerim yüzünden. Öğretmenimin ve arkadaşlarımla gözünden düştüm, dünya başıma yıkıldı, diyerek burnunu çekmiş küçük fil. Bilge Baykuş, olanları anlatırsa ona yardımcı olabileceğini söylemiş.
 - Hangi birini anlatsam ki! Okul yemekhanesindeki kahvaltımız sırasında, ağızda yemek varken konuşmaya çalıştığım için yemekleri arkadaşlarımla yüzüne püskürttüğümü mü, derste izinsiz su içmeye gitmeye çalıştığım için öğretmenimi kızdırdığımı mı, yoksa koridorda koşarken tüm okulu salladığımı mı anlatabilirim? O kadar çok hata yaptım ki artık kimse beni sevmeyecek. Baykuş, düşünüp taşınmış ve bir çözüm bulduğunu söylemiş. Yavru fili kütüphaneye götürmüştü. Bir kitap seçmiş. File demiş ki:
 - Kitaplar, her türlü sorunu çözmeye yardımcıdır. Bu kitabı okursan eminim ki tüm sorunların bitecek.
- Bilge Baykuş'un seçtiği kitabın kapağında "Görgü ve Nezaket Kuralları" yazıyormuş.



1. Yavru filin sorunu neymiş?

.....

2. Yavru fil, neden kimsenin onu sevmeyeceğini düşünüyormuş?

.....

3. Bilge Baykuş, yavru filin sorunu için nasıl bir çözüm bulmuş?

.....

4. "Gözden düşmek" deyiminin ne anlama geldiğini açıklayalım.

.....

☞ Aşağıdaki kelimeleri, eş anlamlısıyla eşleştirelim.

konuk	lider	sonbahar	kanun
önder	ek	ilan	duyuru
yoksul	misafir	yasa	uyarı
ilave	fakir	ikaz	güz

☞ Verilen bilgiye göre, aşağıdaki kelimelerin zıt (karşıt) anlamlılarını bularak altlarına yazalım.

zayıf	dost	tavan	başlangıç	ak	alt
tenha	ceza	yukarı	kalkmak	savaş	aydınlık
ucuz	zarar	tembel	unutmak	nazik	geri

☞ Göselleri verilen kelimelerin Türkçe karşılıklarını yazalım.



Mouse



Computer



Printer

☞ Aşağıdaki cümlelere ait soruları cevaplayalım.

🌿 Arkadaşlarla bahçede dün ip atladık.

Ne?

Nerede?

Ne zaman?

🌿 Her sabah yürüyerek fırına ekmeğe almaya gidiyor.

Nasıl?

Nereye?

Ne zaman?

Tablodaki cümlelerde renkli yazılan kelimelerin, varlıklarının hangi özelliklerini belirttiğini işaretleyelim.

CÜMLELER	Renk	Biçim	Sayı	Durum
Her hafta iki kitap okuyorum.	<input type="checkbox"/>	<input type="checkbox"/>	<input type="checkbox"/>	<input type="checkbox"/>
Bir bardak ılık süt içtim.	<input type="checkbox"/>	<input type="checkbox"/>	<input type="checkbox"/>	<input type="checkbox"/>
Keşke evimiz yemyeşil ormanda olsaydı.	<input type="checkbox"/>	<input type="checkbox"/>	<input type="checkbox"/>	<input type="checkbox"/>
İki inatçı keçi varmış.	<input type="checkbox"/>	<input type="checkbox"/>	<input type="checkbox"/>	<input type="checkbox"/>
Ağaçtan üç elma düşmüş.	<input type="checkbox"/>	<input type="checkbox"/>	<input type="checkbox"/>	<input type="checkbox"/>
Parktan sarı papatyalar topladık.	<input type="checkbox"/>	<input type="checkbox"/>	<input type="checkbox"/>	<input type="checkbox"/>
Yaşlı amcaya yardım ettim.	<input type="checkbox"/>	<input type="checkbox"/>	<input type="checkbox"/>	<input type="checkbox"/>
Üzerimde ince bir kazak vardı.	<input type="checkbox"/>	<input type="checkbox"/>	<input type="checkbox"/>	<input type="checkbox"/>

Aşağıdaki metinlerde () içlerine uygun noktalama işaretlerini koyalım.

Cemil ()
() Acele edin arkadaşlar ()
Kamil ()
() Çantam çok ağır olduğu için hızlı hareket edemiyorum ()
Cemil ()
() Bu kadar ağır ne koydun ki çantana ()

Karne günüydü () Mu ()
rat okuldan döndü () Annesi sordu ()
() Karnen nerede ()
Murat gülererek cevapladı ()
() Arkadaşıma ödünç verdim ()
Benim karnemi kullanarak ba ()
basını korkutacak

Aşağıdaki yazım ve noktalama yanlışlarını düzelterek cümleleri tekrar yazalım.

Kedim sarmanı veterinerine götürdüm

cumhuriyet bayramı coşkuyla kutlanacak

pıtırıcık futbolcu kitabını izmirdeki kitapçıdan aldım





👉 Aşağıdaki soruların doğru cevabını işaretleyelim.

1. “Taşıma su ile değirmen dönmez.”






Yukarıdaki atasözünün anlamı hangisidir?

- A) Başkalarına güvenerek iş yapanlar zor durumda kalırlar.
B) Değirmen rüzgâr ile döner.
C) Zorla her şey yaptırılır.

2. En az iki kelimedenden oluşur.
 Çoğu mecaz anlamlı olur.
 Öğüt vermek amacıyla kullanılır.

Deyimlerle ilgili bilgilerden doğru olanları işaretlediğimizde kutuların görünümünü nasıl olur?

- A)
B)
C)

3.  Fillerin kulakları kocamandır.
 Bugün sağanak yağış vardır.
 Yıldızları sepetine doldurdu.

Yukarıdaki hangi sembolle eşleşen cümlede hayali bir unsur kullanılmıştır?

- A)  B)  C) 

4. Sağlık konusunda en çok ihmal edilen şeylerden birisi de ağız ve diş sağlığıdır. Düzenli olarak diş doktora gidip kontrollerini yaptıran kişi sayısı çok az. Oysa vücudumuzun bir parçası olan dişlerimize özen göstermeliyiz.

Yukarıdaki metnin ana düşüncesi nedir?

- A) Sağlığımıza dikkat etmeliyiz.
B) Doktora gitmeliyiz.
C) Diş sağlığımıza özen göstermeliyiz.

5. Sen yüzünü çevirirsen benden
Güneş kararır, ay küser,
Yıldızlar terk eder gider,
Nefesim biter, dünyam gider.

Yukarıdaki şiir bizlere hangi duyguyu yaşatmaz?

- A) Sevinç B) Kötümserlik
C) Üzüntü

6. Eren üçüncü sınıfta okuyan çalışkan bir çocuktur. Derslerini ve ödevlerini yapar, sorumluluklarını yerine getirirdi. Aynı sınıfta Çınar adında bir öğrenci daha vardı.

Yukarıda giriş bölümü verilen metnin türü aşağıdakilerden hangisidir?

- A) Fıkra B) Hikâye C) Anı

☞ Aşağıdaki toplama işlemlerini yapalım. Sonuçları eşit olan işlemleri eşleştirelim.

$323 + 547 = \dots\dots\dots$

$416 + 157 = \dots\dots\dots$

$225 + 315 = \dots\dots\dots$

$409 + 267 = \dots\dots\dots$

$192 + 651 = \dots\dots\dots$

$245 + 108 = \dots\dots\dots$

$357 + 143 = \dots\dots\dots$

$355 + 218 = \dots\dots\dots$

$373 + 303 = \dots\dots\dots$

$474 + 396 = \dots\dots\dots$

$427 + 416 = \dots\dots\dots$

$187 + 353 = \dots\dots\dots$

$260 + 240 = \dots\dots\dots$

$136 + 217 = \dots\dots\dots$

☞ Aşağıdaki problemleri çözelim.

🌴 Bayramda annem 125 lira, babam 200 lira verdi. Paramın 172 lirasını harcadım. Geriye kaç liram kaldı

🍇 Bir trende 346 yolcu vardı. Birinci istasyonda 74, ikinci istasyonda 120 yolcu indi. Trende kaç yolcu kaldı?

❤️ Soner 524 sayfa kitabın 1. gün 136 sayfasını, 2. gün 102 sayfasını okudu. Geriye kaç sayfa kaldı?

🏠 Günde 40 lira kazanan bir manav 3 haftada kaç lira kazanır?

🌴 Tanesi 154 lira olan saatlerden 2 tane alıp satıcıya 400 TL ödedim. Kaç lira para üstü alırım?

🍇 Cebimdeki 5 liranın 270 kuruşunu harcadım. Geriye kaç kuruş kalır?

☞ Aşağıdaki çıkarma işlemlerini yapalım. Bulduğumuz sonuçlara ait harfleri kutucuklara yazarak şifreyi çözelim.

$$\begin{array}{r} 721 \\ -346 \\ \hline \end{array}$$

K

$$\begin{array}{r} 850 \\ -272 \\ \hline \end{array}$$

L

$$\begin{array}{r} 763 \\ -472 \\ \hline \end{array}$$

Z

$$\begin{array}{r} 428 \\ -107 \\ \hline \end{array}$$

İ

$$\begin{array}{r} 564 \\ -272 \\ \hline \end{array}$$

U

$$\begin{array}{r} 786 \\ -145 \\ \hline \end{array}$$

Y

$$\begin{array}{r} 960 \\ -721 \\ \hline \end{array}$$

E

$$\begin{array}{r} 625 \\ -126 \\ \hline \end{array}$$

T

$$\begin{array}{r} 700 \\ -180 \\ \hline \end{array}$$

R

$$\begin{array}{r} 405 \\ -104 \\ \hline \end{array}$$

S

$$\begin{array}{r} 681 \\ -236 \\ \hline \end{array}$$

O

$$\begin{array}{r} 322 \\ -141 \\ \hline \end{array}$$

İ



239



375



301



321



578



499



181



641



445



520



292



291

☞ Aşağıdaki çoklukların belirtilen birim kesir kadarını işlem yaparak bulalım.

- 24 elmanın $\frac{1}{8}$ 'i kaç elmadır?

- 36 portakalın $\frac{1}{6}$ 'i kaç portakaldır?

- 45 muzun $\frac{1}{5}$ 'i kaç muzdur?

- 27 domatesin $\frac{1}{3}$ 'i kaç domatestir?

- 96 armutun $\frac{1}{8}$ 'i kaç armuttur?

- 54 cevizin $\frac{1}{9}$ 'i kaç cevizdir?

☞ Aşağıdaki bölme işlemlerini yapalım.

$$74 \overline{)5}$$

$$66 \overline{)7}$$

$$52 \overline{)8}$$

$$43 \overline{)5}$$

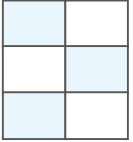
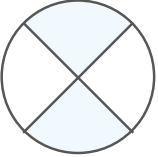
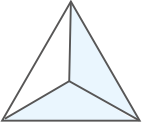
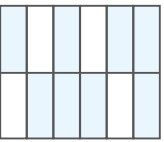
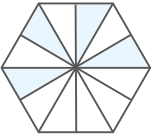
$$87 \overline{)3}$$

$$59 \overline{)2}$$







$$62 \overline{)4}$$

$$84 \overline{)6}$$

☞ Tabloyu dolduralım.

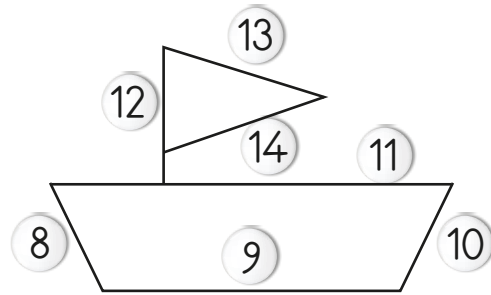
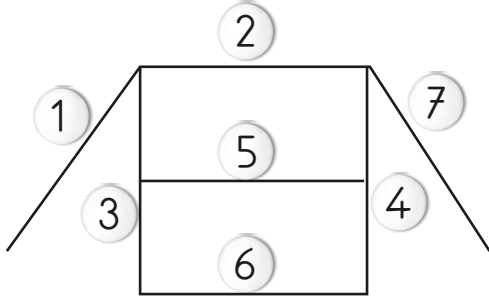
Şekil	Kesir sayısı	Kesrin Okunuşu	Kesrin Birimi	Birim Kesrin Okunuşu
	$\frac{\quad}{\quad}$	$\frac{\quad}{\quad}$
	$\frac{\quad}{\quad}$	$\frac{\quad}{\quad}$
	$\frac{\quad}{\quad}$	$\frac{\quad}{\quad}$
	$\frac{\quad}{\quad}$	$\frac{\quad}{\quad}$
	$\frac{\quad}{\quad}$	$\frac{\quad}{\quad}$

Öğrencilerin kartlarında yazılı sayılar işlem sonuçlarına aittir. Yaptıkları işlemin hangisi olduğunu bularak altlarına isimlerini yazalım.

 875	 208	 860
Görkem	Esin	Tuna
 768	 612	 420
Mira	Yaren	Cenk

13 x 16	24 x 32
.....
43 x 20	15 x 28
.....
35 x 25	34 x 18
.....

Aşağıda verilen çizimlerde sayılarla gösterilen doğru parçalarının çeşitlerini ilgili kutulara yazalım.



Dikey

.....

.....

Yatay

.....

.....

Eğik

.....

.....

Aşağıdaki uzunlukları karşılaştıralım.

7 m 8 cm 780 cm

472 cm 4 m 70 cm

349 cm 3 m 9 cm

5 m 28 cm 500 cm

456 cm 465 cm

2 m 7 cm 207 cm


618 cm 542 cm

643 cm 718 cm



👉 Aşağıdaki soruların doğru cevabını işaretleyelim.

1. Bir toplama işleminde toplananlardan biri 427, toplam 710 ise; diğer toplanan kaçtır?
A) 283 B) 284 C) 285

2.  Kumbaramdaki 245 liranın 102 lirasını harcadım.

Onur'un kumbarasında tahminen kaç lirası kalmıştır?
A) 130 B) 140 C) 150

3. Sınıf başkanlığı seçim sonuçlarını gösteren sıklık tablosu aşağıdaki gibidir.

Aday	Aldığı oy
Cem	8
Ata	12
Burcu	6

Buna göre aşağıdaki ifadelerden hangisi **yanlıştır**?

- A) Burcu, Cem'den 2 oy az almıştır.
B) Cem, sınıf başkanı olamaz.
C) Sınıfta toplam 24 oy kullanılmıştır.

4. Berfin her gün 56 sayfa kitap okuyarak 15 günde kitabını bitiriyor. Buna göre Berfin'in okuduğu kitap kaç sayfadır?



A) 820 B) 840 C) 860

5.
$$\begin{array}{r} \star \quad | \quad 18 \\ \quad \quad | \quad 7 \\ \hline \quad \quad 4 \end{array}$$
 Yandaki bölme işlemine göre \star aşağıdakilerden hangisidir?

A) 122 B) 126 C) 130

6. Bir torbada 53 sarı, 27 mavi misket vardır. Torbadaki misketleri 5 arkadaş eşit olarak paylaşırsa her birine kaç misket düşer?

A) 14 B) 15 C) 16

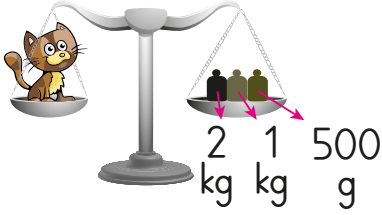
7.



Yukarıdaki saat 55 dakika sonra kaç gösterir?

A) 03.30 B) 02.55
C) 02.30

8.



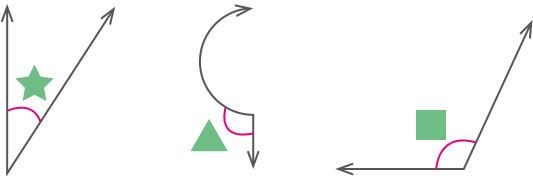
Kedinin kütlesi yukarıda verilen ağırlıkların toplamı kadardır. Buna göre kedinin kütlesi ne kadardır?

- A) 3kg 750g B) 3kg 500g
C) 3kg 250 g

9. Hangi seçenekteki şekiller bir araya gelirse silindir oluşturur?

- A) ○ ○ □
B) △ ○
C) △ △ □ □ □

10.

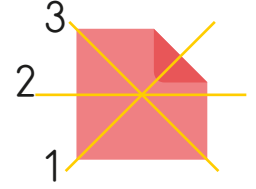


Hangi sembolle gösterilen bir açı değildir?

- A) ★ B) ▲ C) ■

11.

Yandaki düzlemsel şekil kaç numaralı çizgiden kesilirse iki eş parçaya ayrılır?

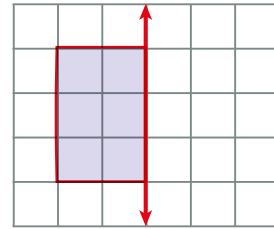


- A) 1 B) 2 C) 3

12. Aşağıdaki eşitliklerden hangisi doğrudur?

- A) 703 cm = 7 m 30 cm
B) 418 cm = 4 m 18 cm
C) 540 cm = 5 m 4 cm

13.



Yukarıdaki şekli simetri doğrusuna göre tamamladığımızda oluşan şeklin alanı kaç birim olur?

- A) 12 B) 14 C) 16

14.



2 litre

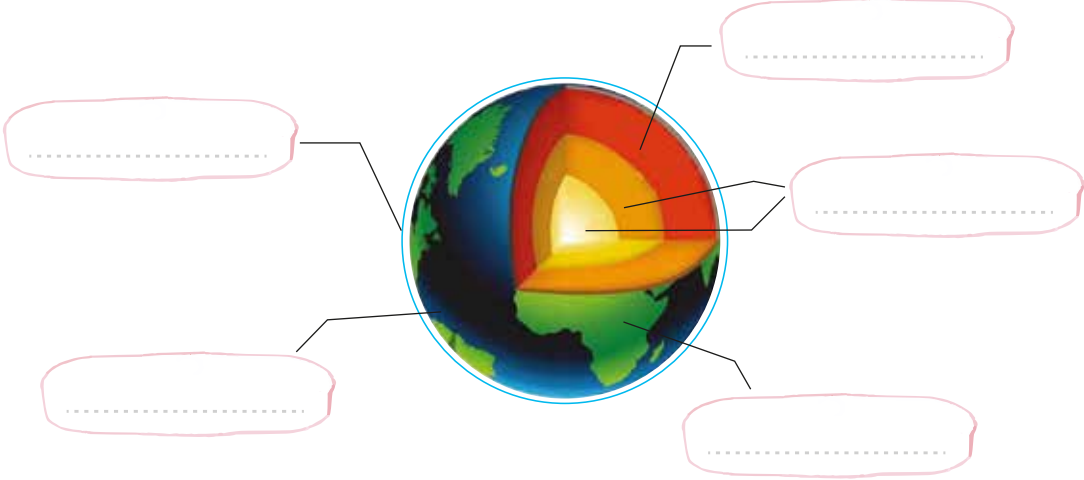


Yarım litre

2 litrelik şişe kaç tane yarım litrelik çay bardağı ile dolar?

- A) 4 B) 8 C) 12

👉 Dünya'nın katmanlarını boşluklara yazalım.



👉 Aşağıdaki kelimeleri kullanarak cümleleri tamamlayalım.

beş

doğal

işitme

karanlık

dalgalar

şiddeti

yeterli

mikrofon

ses kaynağı

sağlıklı

1. Çevremizi algılamayı ve anlamayı sağlayan tane duyu organımız vardır.
2. Duyu organları yaşamımızı şekilde sürdürmemizi sağlar.
3. Kalabalık ortamlarda sesin şiddetini arttırmak için kullanılır.
4. Varlıkları ortamlarda görmemiz zordur.
5. Ses çıkaran veya üreten her varlığa denir.
6. Kendiliğinden ışık yanan kaynaklara ışık kaynakları denir.
7. Işık kaynağı olduğunda cisimleri net görürüz.
8. Aşırı gürültülü ortamlarda kaybına sebep olabilir.
9. Ses halinde yayılır.
10. İşitme cihazı ile sesin artırılarak sesler daha iyi duyulur.

Doğru ifadelerle 😊, yanlış ifadelerle ☹️ yapalım.

☹️ Kuvvet bütün varlıkların şeklini değiştirebilir.

☹️ İtme ve çekme sırasında cisimlere kuvvet uygularız.

☹️ Ağacı iterek hareket ettiremeyiz.

☹️ Cisimlere uyguladığımız kuvvet cisimlerin yönünü değiştirebilir.

☹️ Uyguladığımız kuvvet küçükse cisim hareket etmeyebilir.

☹️ Bir cismi durdurabilmek için cismin hareket yönünün tersi yönde kuvvet uygulamamız gerekir.

☹️ Buzdolabının kapağını kapatmak için çekme kuvveti uygulamalıyız.

Tabloda verilen maddelerin özelliklerini (✓) ile işaretleyelim.

Madde	Yumuşak	Sert	Pürüzlü	Pürüzsüz	Kırılgan	Esnek
Sünger	✓		✓			✓
Taş						
Yay						
Cam						
Paket Lastiği						
Fayans						
Silgi						

Aşağıdaki elektrik kaynaklarının isimlerini yazarak verilen tanımlarla eşleştirelim.



Motorlu araçlardaki elektriği sağlar.

Elektrik santrallerinde üretilip teller aracılığı ile evlerimize ulaşan elektrik kaynağıdır.

Düşük enerji üreten elektrik kaynağıdır.

Birden fazla pilin bir araya getirilmesiyle oluşturulan elektrik kaynağıdır.

☞ Aşağıdaki ifadelerin kaynak çeşitlerini belirleyip numaralarını ilgili kutulara yazalım.

IŞIK KAYNAĞI

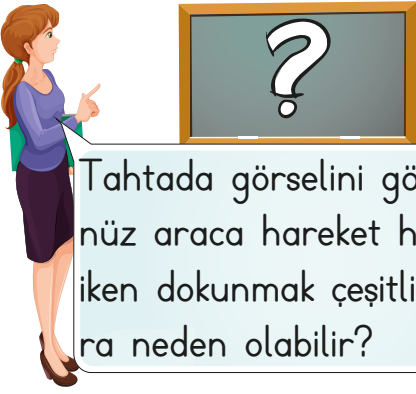
SES KAYNAĞI

doğal	yapay	doğal	yapay		
.....		
Akarsu sesi	1	Yıldızlar	2	Gök gürültüsü	3
Keman sesi	4	Fener	5	Rüzgar sesi	6
Şelale	7	Telefon	8	Ateş böceği	9
Gaz lambası	10	Güneş	11	Hayvan sesi	12
İnsan sesi	13	Zil sesi	14	Şimşek	15
Mum	16	Kedi sesi	17	Flüt sesi	18
Trafik lambası	19	Makine sesi	20	Meşale	21

☞ Canlıların ortak özellikleri ile açıklamaları eşleştirelim.

- | | | |
|-------------------|--------------------------|---|
| 1. Büyüme | <input type="checkbox"/> | Yaşamın sona ermesi. |
| 2. Beslenme | <input type="checkbox"/> | Oksijen ihtiyacının karşılanmasıdır. |
| 3. Doğum | <input type="checkbox"/> | Yer değiştirme veya yönelmedir. |
| 4. Hareket etme | <input type="checkbox"/> | Vücuttaki gereksiz maddelerin atılmasıdır. |
| 5. Çoğalma | <input type="checkbox"/> | Canlıların gelişmesidir. |
| 6. Solunum yapma | <input type="checkbox"/> | Yeni bir canlının meydana gelmesi. |
| 7. Tepki verme | <input type="checkbox"/> | Çevreye karşı duyarlı olmaktır. |
| 8. Boşaltım yapma | <input type="checkbox"/> | Canlı kalmak ve gelişmek için enerji alınmasıdır. |
| 9. Ölüm | <input type="checkbox"/> | Kendi türlerini devam ettirmektir. |

1. Aşağıdaki soruların doğru cevabını işaretleyelim.

1.  Tahtada görselini gördüğünüz araca hareket hâlinde iken dokunmak çeşitli kazalara neden olabilir?

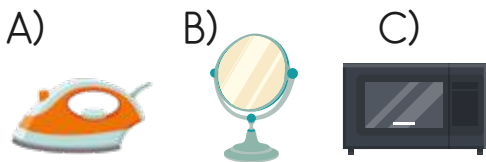
Aşağıdakilerden hangisi görseldeki araç **olamaz**?

- A) Mikser B) Vantilatör
C) Telefon

2. Aşağıdakilerden hangisi Dünya'nın şeklini en doğru şekilde kanıtlar?

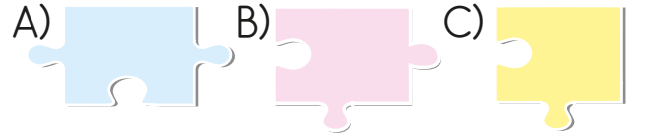
- A) Uzaydan çekilen fotoğraflar.
B) Güneş'in hep aynı yerde olması.
C) Güneş'in doğudan doğup, batıdan batması.

3. Aşağıdakilerden hangisi evimizde kullandığımız elektrikli bir araç **değildir**?




4. 

Hangi yapboz parçasında yazılan kaynak **tükenmeyen** kaynaklardan biridir?



5. Aşağıdakilerden hangisi yapay çevreye örnek olabilir?



6. ➤ Güzel ve kötü kokuyu ile algılarız.

➤ Kelebeğin rengini duyu organımızla algılarız.

Yukarıdaki boşluklara gelecek olan duyu organlarımız hangi şıkta sırasıyla verilmiştir?

- A) göz-kulak B) burun-dil
C) burun-göz



HAYAT BİLGİSİ

4. Sınıf
“SEVİYE TESPİT SINAVI”

Tarih:

Adım:

Soyadım:

Öğrendiklerimizi Tekrar Edelim

Doğru ifadelerin başına D, yanlış olanların başına Y yazalım.

- Yeterli olmayan yönlerimizi asla güçlendiremeyiz.
- Sorunlarla başa çıkabilmek güçlü yönlerimizdendir.
- Bütün insanlar birbirinden farklı özelliklere sahiptir.
- Doğru arkadaşlar hayatımıza katkı sağlarlar.
- Arkadaşlık bağlarının korunması için saygı ve dayanışma olmalıdır.

Aşağıdaki boşlukları uygun kelimelerle tamamlayalım.

amaçlarını

bilgiler

geleceğe

öğretmenimizle

öğretmenler

vücudumuzu

geliştiririz

Okul

spor

..... , eğitim ve öğretimin bize sunulduğu yerdir. Zamanımızın büyük bir kısmını okulda, arkadaşlarımız ve geçiririz. Hem öğrenir hem de eğleniriz. Kendimizi Okul bizi hazırlar. Bu sebeple de okullar toplumun gerçekleştirmek için yapılanmıştır.

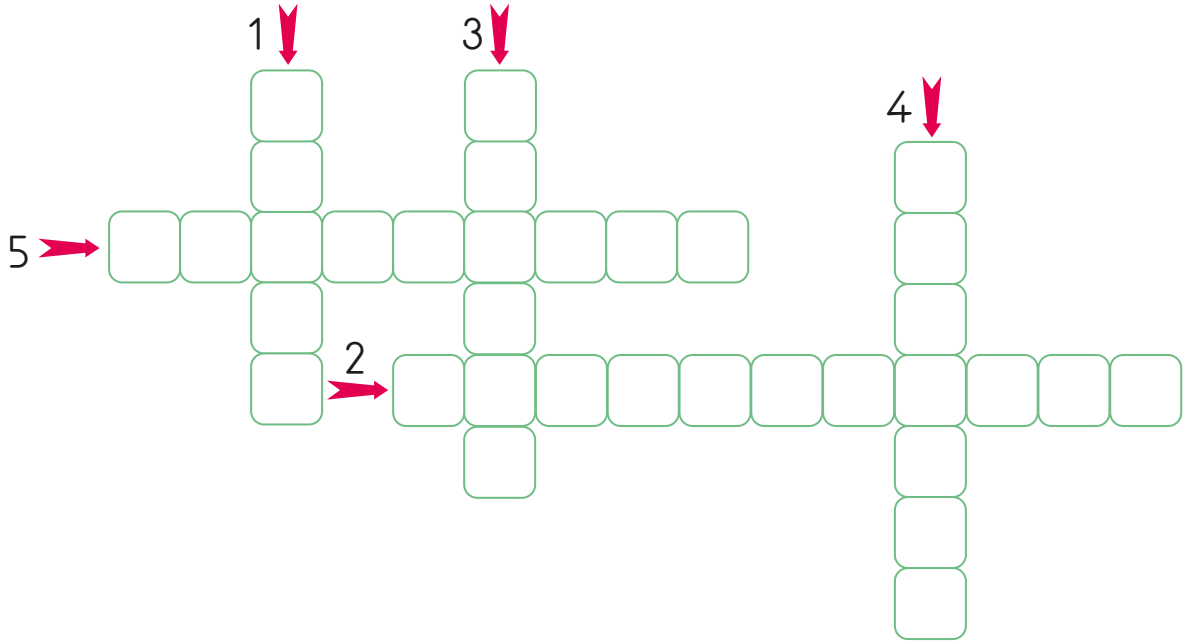
Okulda eşliğinde birçok ders işleriz. Derslerin yanında çeşitli faaliyetleri yaparız. Bu faaliyetler geliştirir, sağlığımız için önemlidir.

Aşağıdaki durumlarda neler yapabiliriz? Düşünelim, yazalım.

Ekmekler bayatladığında;	Kıyafetlerimiz küçük gelmeye başladığında;	Faturalarımız fazla geldiğinde;
.....
.....
.....
.....

👉 Noktalı yerlere yazılması gereken kelimeleri bulup bulmacaya yerleştirelim.

1. Bir yerin kuş bakışı görünümünün kabataslak çizimine denir.
2. Kabataslak çizim çizim anlamına gelir.
3. Kuş bakışı bir yerin görünümüdür.
4. Kroki çizilir.
5. Kroki çizerken şekillerden yararlarız.



👉 Aşağıdaki ifadeler ile tanımları eşleştirelim.

Kaymakam	Muhtarlık	Yerel yönetim	Vali	İl	Köy
1	2	3	4	5	6

- Yönetimi ilçede temsil eden, ilçenin en büyük yöneticisi.
- İl, ilçe ve köylerdeki yönetim birimlerinin tümü.
- İllerde bulunan en yetkili kişi.
- Köy ve mahallelerde bulunan yerel yönetim birimleri.
- En küçük yönetim birimidir.
- En büyük yönetim birimidir.

☞ Aşağıda verilen ürünün üzerinde bulunması gerekenleri işaretleyelim.



Son kullanma tarihi

Son üretilme tarihi

Geri dönüşüm işareti

Üretici firma adı

Okulun adresi

Parti numarası

Üretim tarihi

Adı soyadı

☞ Aşağıda verilen sağlık sorunları ile açıklamalarını eşleştirelim.

a Obezite

Vücudumuzun bazı besinlere karşı gösterdiği aşırı duyarlılık.

b Diyabet

Aşırı kilolu olma durumu, hastalık düzeyinde şişmanlık.

c Çölyak

İnce bağırsağın "Gluten" adlı proteine karşı hassas olması.

d Besin alerjisi

Şeker hastalığı.

☞ Görselleri anlamları ile eşleştirelim.

1 Yaya geçidi

2 Mecburi yaya yolu

3 Bisiklet giremez

4 Okul geçidi

5 Işıklı işaret cihazı

6 Yaya giremez

7 Kontrolsüz demir yolu geçidi

8 Mecburi bisiklet yolu



👉 Aşağıdaki soruların doğru cevabını işaretleyelim.

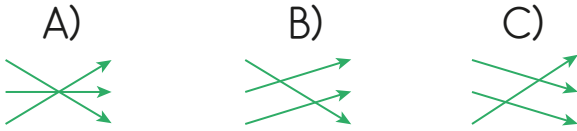
1. I. Karpuz yaz mevsimine ait bir meyvedir.
II. Meyveleri mevsimi dışında da sağlıklı tüketebilmek için reçel yapabiliriz.


Yukarıdaki ifadeler için hangisi söylenebilir?

- A) Yalnız I doğrudur.
B) Yalnız II doğrudur.
C) Her ikisi de doğrudur?

2. Zafer Bayramı 23 Nisan
Çocuk Bayramı 29 Ekim
Cumhuriyet Bayramı 30 Ağustos

Millî bayramlar ile tarihleri eşleştirdiğinde oklar nasıl görünür?



3. 

Yukarıdakilerden kaç tanesini yön bulmada kullanırız?

- A) 4 B) 3 C) 2


4. Aşağıdakilerden hangisi cumhuriyetin getirdiği yeniliklerden **değildir**?

- A) Eğitimde birlik sağlanmıştır.
B) Yeni Türk alfabesi kabul edilmiştir.
C) Kadın ve erkek eşitliği bitmiştir.

5. Akran baskısı; bizim isteğimiz dışında gelişir. Yaşıtımız olan başka çocukların bizden bir şeyler istemesi veya bir şeylere zorlamasıdır.

Buna göre hangisi akran baskısına örnek olabilir?

- A) Arkadaşlarımızın bizimle konuşmak istemesi.
B) Arkadaşımızın bize gülümsemesi.
C) Arkadaşımızın zorla kelimeyi almaması.

6.  Hepiniz millet vekili olabilirsiniz, bakan olabilirsiniz. Hatta cumhurbaşkanı olabilirsiniz. Fakat sanatkar olamazsınız.

Atatürk'ün bu sözü onun hangi kişisel özelliğini yansıtmaktadır?

- A) Yenilikçi oluşu
B) İleri görüşlülüğü
C) Sanata verdiği önem